

518

ОБЖ-10А-9

ЗАДАНИЯ

ВСЕРОССИЙСКОЙ ОЛИМПИАДЫ ШКОЛЬНИКОВ ПО ОБЖ 2022-2023 г. г.

(школьный этап)

10 – 11 класс

ОЛИМПИАДА по ОБЖ

(10-11 класс)

Теоретическая часть : Как я знаю ОБЖ (максимальное количество баллов -506.)

Выберите правильный ответ.

1. Приметами хоженной тропы могут быть:

- а) высокая трава, наличие следов птиц и зверей;
- + б) примятая трава, следы от транспорта, следы деятельности человека;
- в) растущие на тропе грибы, ягоды, сломанные ветки.

2. Как вы будете переправляться, если лед ненадежен, а обойти его нет возможности:

- + а) с шестом, держа его горизонтально на уровне груди; б) ползком;
- в) обычным шагом, простукивая лед впереди палкой.

3. При заблаговременном оповещении о наводнении необходимо:

- а) открыть окна и двери нижних этажей;
- + б) включить телевизор, радио, выслушать сообщения и рекомендации;
- в) перенести на нижние этажи ценные вещи.

4. Неконтролируемое горение растительности, стихийно распространяющееся по лесной территории, - это:

- + а) стихийный пожар; б) природный пожар; в) лесной пожар.

5. РСЧС создана с целью:

- а) прогнозирования ЧС на территории Российской Федерации и организации проведения аварийно-спасательных и других неотложных работ;
- + б) объединения усилий органов власти, организаций и предприятий, их сил и средств в области предупреждения и ликвидации чрезвычайных ситуаций;
- в) обеспечение первоочередного жизнеобеспечения населения, пострадавшего в чрезвычайных ситуациях на территории Российской Федерации.

6. Если кровотечение сопровождается излиянием крови во внутренние органы, полости и ткани, то оно называется:

- + а) полостным; б) внутренним; в) закрытым.

7. Какова последовательность оказания первой помощи при коллапсе:

- а) пострадавшего уложить на живот, подложив подушку, нижнюю часть туловища и ноги несколько опустить, дать понюхать (вдохнуть) нашатырного спирта, согреть ноги;

б) пострадавшего уложить на спину, подложив подушку, нижнюю часть туловища и ноги пострадавшего приподнять как можно выше, дать понюхать (вдохнуть) нашатырного спирта, приложить лед к ногам;

в) пострадавшего уложить на спину, нижнюю часть туловища и ноги пострадавшего несколько приподнять, дать понюхать (вдохнуть) нашатырного спирта, согреть ноги.

8. Как высушить резиновые сапоги в походе:

а) набить сухой травой или бумагой и поставить их недалеко от костра;

в) вбить в землю около костра колышки и повесить на них сапоги;

в) вытащить из сапог стельки и протереть внутри досуха тряпкой, поставить сапоги к теплу, но не к открытому огню.

9. В солнечный полдень тень указывает направление на:

а) юг; б) север; в) запад; г) восток.

10. При внезапном наводнении до прибытия помощи следует:

а) оставаться на месте и ждать указаний по телевидению (радио), при этом вывесить белое или цветное полотнище, чтобы вас обнаружили;

б) быстро занять ближайшее возвышенное место и оставаться там до схода воды, при этом подавать сигналы, позволяющие вас обнаружить;

в) спуститься на нижний этаж и подавать световые сигналы.

11. Аммиак – это:

а) бесцветный газ с резким запахом, тяжелее воздуха;

б) газ с удушливым неприятным запахом, напоминающим запах гнилых плодов;

в) бесцветный газ с резким удушливым запахом, легче воздуха.

12. Вы играли с друзьями на улице. Вдруг на заводах и предприятиях загудели гудки. В жилом районе включили сирену. Ваши действия:

а) немедленно пойти домой и уточнить у родителей или соседей, что произошло в микрорайоне, городе, стране;

б) пойти домой, включить радио или телевизор на местной программе, выслушать информацию и выполнить содержащиеся в ней указания;

в) продолжить игру, не обращая внимания на происходящее вокруг вас.

13. Для приведения в действие огнетушителя ОУ необходимо:

а) сорвать пломбу и выдернуть чеку, направить раструб на пламя и нажать на рычаг;

б) прочистить раструб, нажать на рычаг и направить на пламя;

в) нажать на рычаг, взяться за раструб рукой, направить на пламя и придерживать до прекращения горения.

14. По каким местным приметам можно определить стороны света:

а) стволам и коре деревьев, лишайнику и мху, склонам холмов и бугров, муравейникам, таянию снега;

б) кустарнику и сухой траве, направлению течения ручьев и рек, наезженной колеи;

в) полыньям на водоемах, скорости ветра, направлению комлей валяющихся на дороге спиленных деревьев.

15. Чтобы правильно преодолеть реку, следует:

а) преодолевать реку вплавь, использовать надувные матрацы и камеры;

б) выбрать место, где вода выглядит спокойной, и переходить реку вброд, используя надувные камеры;

в) выбрать удобное место и переходить реку вброд, используя шест или альпеншток.

16. Вы попали под завал в результате землетрясения, нога была придавлена упавшей конструкцией, но освобождена: шевелить пальцами и ступней ноги можете. В помещении есть немного свободного пространства, но выход заблокирован. Какова очередность ваших действий:

а) окажете себе первую помощь, установите подпорки под конструкции над вами, найдете теплые вещи или одеяло, чтобы укрыться, будете кричать, стучать металлическими предметами по трубам, плитам;

б) окажете себе первую помощь и начнете разгребать завал в сторону выхода из помещения;

в) установите подпорки под конструкции над вами, попытаетесь подойти к оконному проему, если найдете спички, попытаетесь развести небольшой костер, чтобы согреться и осмотреться вокруг.

17. Взрыв всегда сопровождается:

а) большим количеством выделяемой энергии;

б) резким повышением температуры;

в) незначительным дробящим действием.

18. Если сигнал об угрозе нападения противника застал вас дома, необходимо:

а) оставаться дома, плотно закрыв окна и двери;

б) быстро покинуть здание и спуститься в ближайшее убежище;

в) покинуть здание и отойти от него на безопасное расстояние.

19. Какой устав используется на кораблях Военно-Морского Флота (ВМФ) России?

а) морской устав;

б) устав Российского флота Петра I;

в) такой же как и в сухопутных войсках;

г) на кораблях внутренняя служба и обязанности должностных лиц дополнительно определяются корабельным уставом (ВМФ).

20. Допустимая толщина льда при передвижении по нему людей должна быть:

а) не менее 10 см; б) не менее 5 см; в) не менее 15 см.

21. Укажите самый простой способ обеззараживания воды в полевых условиях из предложенных ниже:

а) кипячение воды;

б) очистка через фильтр из песка, ваты и материи;

в) очистка через фильтр из песка и материи;

22. К поражающим факторам взрыва относятся:

а) осколочные поля и ударная волна;

б) высокая температура и волна прорыва;

в) сильная загазованность местности.

23. Боевые традиции – это:

а) исторически сложившиеся в армии и на флоте и передающиеся из поколения в поколение правила, обычаи и нормы поведения военнослужащих, связанные с образцовым выполнением боевых задач и несением воинской службы;

б) определенные правила и требования к несению службы и выполнению боевых задач;

в) специальные нормы, предъявленные к психологическим и нравственным качествам военнослужащего в период прохождения им воинской службы.

24. Из приведенных волевых качеств определите те, которые необходимы для выполнения воинского долга.

- а) решительность, вдержка, настойчивость в преодолении препятствий и трудностей, которые возникают в процессе военной службы и мешают ей;
- б) агрессивность, настороженность, терпимость к себе и сослуживцам;
- в) терпимость по отношению к старшим по званию, лояльность по отношению к сослуживцам, непримиримость к неуставным взаимоотношениям.

25. Преданность своему Отечеству, любовь к Родине, стремление служить ее интересам и защищать ее от врагов – это:

- а) патриотизм; б) героизм; в) воинский долг.

26. Когда гражданин приносит военную присягу в современных условиях?

- а) когда предложат командиры;
- б) когда захочет;
- в) после прохождения начальной военной подготовки, но не позднее двух месяцев со дня прибытия в воинскую часть

27. Совершение выдающихся по своему значению действий и требующих от человека (воина) личного мужества, стойкости, готовности к самопожертвованию – это:

- а) героизм; б) мужество; в) воинская честь.


28. На какой срок заключается контракт для поступающих впервые на службу на должности солдат, сержантов и им равных?

- а) на один год;
- б) на два года;
- в) на три года;
- г) на пять лет.

29. При закрытом переломе бедра необходимо:

- а) попытаться определить подвижность ноги, согнув ее в коленном суставе, придать пострадавшему возвышенное положение;
- б) дать обезболивающее средство, положить две шины: длинную, от подмышечной впадины до наружной лодыжки, и короткую, от промежности до внутренней лодыжки;
- в) дать обезболивающее средство, положить шину из подручного материала от подмышечной впадины до коленного сустава.

30. Что Вы можете сказать о военнослужащих, имеющих такие погоны.



Определить воинское звание

Капитан

Офицер, высокая форма

погоны

Теоретическая часть 2

Задание 1.

1.1. Глядя на рисунок, напишите названия основных частей автомата.



1.2. Распределите операции в порядке их выполнения при сборке автомата после неполной разборки (ответ представьте последовательностью букв, например: в, а,...):

- а) Присоединяют шомпол;
- б) Присоединяют затворную раму с затвором к ствольной коробке;
- в) Присоединяют крышку ствольной коробки;
- г) Присоединяют магазин к автомату;
- д) Присоединяют затвор к затворной раме;
- е) Присоединяют возвратный механизм;
- ж) Присоединяют газовую трубку со ствольной накладкой;
- з) Вкладывают пенал в гнездо приклада;
- и) Спускают курок с боевого взвода.
- к) Ставлю курок на предохранитель

а) з) ж) г) б) е) в) и) к) 2)

Задание 3. Ситуационная задача. (максимальное количество баллов -106.)

На автобусной остановке стоящий рядом мужчина побледнел и упал. Он - без сознания, кожные покровы бледные, с сероватым оттенком; зрачки широкие, на свет не реагируют.

Выберите правильные ответы и расположите их в порядке очередности выполнения:

1. Вызвать скорую помощь.
2. Убедиться в отсутствии пульса на сонной артерии и реакции зрачков на свет.
3. Позвать окружающих на помощь.
4. Определить признаки дыхания с помощью ворсинок ваты или зеркалаца.
5. Нанести прекардиальный удар и приступить к сердечно-легочной реанимации.
6. Попытаться добиться от мужчины, на что он все-таки жалуется.

7. Подробно расспросить окружающих, что предшествовало потере сознания.
8. Повернуть пострадавшего на живот.
9. Приложить к голове холод (целлофановый пакет со снегом или холодной водой).
10. Поднести к носу ватку с нашатырным спиртом.

Задание 4. Вопросы по правилам пожарной безопасности (максимальное количество баллов - 10б.)

1. В каком из перечисленных примеров могут создаться условия для возникновения процесса горения:

- а) бензин + кислород воздуха
- б) ткань, смоченная в азотной кислоте + тлеющая сигарета
- в) гранит + кислород воздуха + пламя горелки
- г) дерево + кислород воздуха + факел
- д) ацетон + кислород воздуха + искра от зажигалки

2. Как вы поступите если на вас загорелась одежда:

- а) побежите, постараетесь сорвать одежду
- б) остановитесь, упадете, покатитесь, сбивая пламя
- в) завернетесь в одеяло и обмотаетесь плотной тканью

3. Вы идете вечером и замечаете, что из подвала вашего дома валит дым и из дверей выбегают дети.

Ваши действия:

- а) подойдете и спросите, что там горит
- б) войдете внутрь и посмотрите, что горит
- в) пойдете домой и позвоните в пожарную охрану

4. Для приведения в действие огнетушителя ОУ необходимо:

- а) направить раструб на пламя 3
- б) сорвать пломбу и выдернуть чеку 2
- в) прочистить раструб - 1
- г) нажать на рычаг 4
- д) взяться за раструб рукой и придерживать его

Выберите правильные ответы и расположите их по очередности действий.

5. Как вы думаете большее или меньшее поражение, чем огонь, вызывает кипящая жидкость, попавшая на тело:

- а) меньшее
- б) большее
- в) не приходилось сталкиваться с этим.

6. Сжигание мусора на территории предприятия или во дворе :

- а) запрещается;
- б) разрешается, если расстояние от места сжигания до зданий и сооружений более 150 м;

- в.) разрешается в присутствии сотрудника противопожарной службы;
- г.) разрешается, если место сжигания обнесено барьерным ограждением.

Задание 2. Вопросы по правилам дорожного движения (максимальное количество баллов -10б.)

1. Где разрешается кататься на санках и лыжах?



- 1. По дороге, предназначенной для пешеходов.
- 2. По правой стороне проезжей части.
- 3. В специально отведенных местах для массового отдыха, где нет опасности выезда на проезжую часть.

+

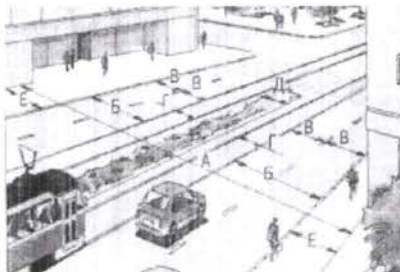
2. Разрешается ли в этой обстановке водителю левого автомобиля продолжать движение через пешеходный переход?



- 1. Разрешается.
- 2. Запрещается.

+

3. Основными элементами дороги в городе являются:



- 1. Обочина, кювет, тротуар.
- 2. Пешеходный переход, дорожное ограждение, обочина.
- 3. Проезжая часть, тротуар, разделительная полоса, трамвайные пути, обочина.

+

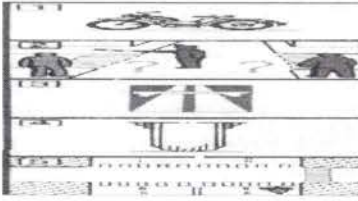
4. Где разрешается водить группы детей в населенном пункте?



- 1. Только по тротуару или пешеходной дорожке.
- 2. По краю проезжей части вдоль тротуара.

+

5. Разрешается ли эксплуатация мопеда, если рисунок протектора его шин полностью стерт?



- 1. Разрешается только в сухую погоду.
- 2. Разрешается.
- 3. Не разрешается.



6. Как должны двигаться лица, ведущие мотоцикл, мопед или велосипед, за пределами населенного пункта?

- 1. По краю проезжей части навстречу движению транспортных средств.
- 2. По краю проезжей части по ходу движения транспортных средств.
- 3. По тротуару.
- 4. По тротуару или велосипедной дорожке



7. Какие знаки предупреждают о приближении к железнодорожному переезду со шлагбаумом?



А Б В Г Д

- 1. Все знаки.
- 2. А и Б.
- 3. А и Д.
- 4. А и Г.
- 5. В и Г.
- 6. Г.



8. Если по вине пешехода, произошло ДТП в результате которого были повреждены автомобиль или придорожные постройки, нарушитель наказывается следующим образом:

- 1. Инспектор ГИБДД предупредит его.
- 2. Нарушителя оштрафуют.
- 3. Нарушителя оштрафуют и он должен будет возместить ущерб от ДТП.



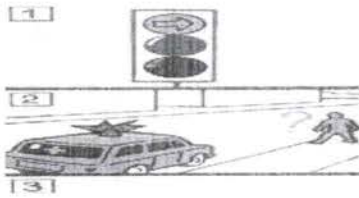
9. Имеет ли право водитель мопеда проезжать за этот знак?



- 1. Имеет право.
- 2. Не имеет права.



10. Что сказано в ПРАВИЛАХ о переходе дороги, если приближается автомобиль с проблесковым маячком или специальным сигналом?



- 1) Воздерживаться от выхода на проезжую часть.
2. Можно переходить дорогу, не мешая этому автомобилю.



Практическая часть

Задние 1 Наложение кровоостанавливающего жгута (закрутки) на бедро и плечо.

(максимальное количество баллов -10б.)

Условия выполнения нормативов. Статист, которому накладывают жгут (закрутку), лежит в удобном положении. Учащийся держит развернутый жгут в руках. Материал для наложения закрутки лежит на столе рядом. Жгут (закрутка) накладывается на одежду. На столе рядом лежит блокнот и карандаш. По заданию и команде преподавателя учащийся накладывает жгут (закрутку) на указанную область. Указывает время их наложения (часы, минуты) и записку подкладывает под последний ход жгута (закрутки), контролирует отсутствие пульса на периферическом сосуде. Этим заканчивается выполнение норматива.

Возможные ошибки, снижающие оценку на 1 балл.

- наложение жгута (закрутки) не на ту область (сторону);
- чрезмерное перетягивание конечности или наличие пульса на периферическом сосуде;
- не записано время наложения жгута (закрутки); наложение жгута (закрутки) на голое тело.

Время выполнения норматива

Наложение кровоостанавливающего жгута на плечо, бедро:

«отлично» — 25 сек.,

«хорошо» — 30 сек,

«удовлетворительно» — 35 сек.;

Задание 2 . Надевание противогаза ГП – 5 (максимальное количество баллов -10б.)

Баллы	Время надевание противогаза (в секундах)
10	8.0 сек
9	8.5 сек
8	9.0 сек
7	9.5 сек
6	10.0 сек
5	10.5 сек
4	11.0 сек
3	11.3 сек
2	11.7 сек
1	12.0 сек

ОБЖ-10А-9

10 баллов – лучший результат по времени (наименьшее время с учетом возможных ошибок)

9 баллов – второй результат;

8 баллов – третий результат;

7 баллов – четвертый и последующие результаты.

Исходное положение противогаза – наготове (сумка расстегнута, противогаз впереди). По команде «Газы!», учащиеся надевают противогаз.

448

ОБЖ - 10А - 14

ЗАДАНИЯ

ВСЕРОССИЙСКОЙ ОЛИМПИАДЫ ШКОЛЬНИКОВ ПО ОБЖ 2022-2023 г. г.

(школьный этап)

10 – 11 класс

ОЛИМПИАДА по ОБЖ

(10-11 класс)

Теоретическая часть : Как я знаю ОБЖ (максимальное количество баллов -506.)

Выберите правильный ответ.

1. Приметами хоженной тропы могут быть:

а) высокая трава, наличие следов птиц и зверей;

+ б) примятая трава, следы от транспорта, следы деятельности человека;

в) растущие на тропе грибы, ягоды, сломанные ветки.

2. Как вы будете переправляться, если лед ненадежен, а обойти его нет возможности:

+ а) с шестом, держа его горизонтально на уровне груди; б) ползком;

в) обычным шагом, простукивая лед впереди палкой.

3. При заблаговременном оповещении о наводнении необходимо:

а) открыть окна и двери нижних этажей;

+ б) включить телевизор, радио, выслушать сообщения и рекомендации;

в) перенести на нижние этажи ценные вещи.

4. Неконтролируемое горение растительности, стихийно распространяющееся по лесной территории, - это:

+ а) стихийный пожар; б) природный пожар; в) лесной пожар.

5. РСЧС создана с целью:

а) прогнозирования ЧС на территории Российской Федерации и организации проведения аварийно-спасательных и других неотложных работ;

+ б) объединения усилий органов власти, организаций и предприятий, их сил и средств в области предупреждения и ликвидации чрезвычайных ситуаций;

в) обеспечение первоочередного жизнеобеспечения населения, пострадавшего в чрезвычайных ситуациях на территории Российской Федерации.

6. Если кровотечение сопровождается излиянием крови во внутренние органы, полости и ткани, то оно называется:

+ а) полостным; б) внутренним; в) закрытым.

7. Какова последовательность оказания первой помощи при коллапсе:

а) пострадавшего уложить на живот, подложив подушку, нижнюю часть туловища и ноги несколько опустить, дать понюхать (вдохнуть) нашатырного спирта, согреть ноги;

б) пострадавшего уложить на спину, подложив подушку, нижнюю часть туловища и ноги пострадавшего приподнять как можно выше, дать понюхать (вдохнуть) нашатырного спирта, приложить лед к ногам;

+ в) пострадавшего уложить на спину, нижнюю часть туловища и ноги пострадавшего несколько приподнять, дать понюхать (вдохнуть) нашатырного спирта, согреть ноги.

8. Как высушить резиновые сапоги в походе:

а) набить сухой травой или бумагой и поставить их недалеко от костра;

в) вбить в землю около костра колышки и повесить на них сапоги;

+ в) вытащить из сапог стельки и протереть внутри досуха тряпкой, поставить сапоги к теплу, но не к открытому огню.

9. В солнечный полдень тень указывает направление на:

- а) юг; б) север; в) запад; г) восток.

10. При внезапном наводнении до прибытия помощи следует:

а) оставаться на месте и ждать указаний по телевидению (радио), при этом вывесить белое или цветное полотнище, чтобы вас обнаружили;

+ б) быстро занять ближайшее возвышенное место и оставаться там до схода воды, при этом подавать сигналы, позволяющие вас обнаружить;

в) спуститься на нижний этаж и подавать световые сигналы.

11. Аммиак – это:

а) бесцветный газ с резким запахом, тяжелее воздуха;

+ б) газ с удушливым неприятным запахом, напоминающим запах гнилых плодов;

в) бесцветный газ с резким удушливым запахом, легче воздуха.

12. Вы играли с друзьями на улице. Вдруг на заводах и предприятиях загудели гудки. В жилом районе включили сирену. Ваши действия:

а) немедленно пойти домой и уточнить у родителей или соседей, что произошло в микрорайоне, городе, стране;

+ б) пойти домой, включить радио или телевизор на местной программе, выслушать информацию и выполнить содержащиеся в ней указания;

в) продолжить игру, не обращая внимания на происходящее вокруг вас.

13. Для приведения в действие огнетушителя ОУ необходимо:

+ а) сорвать пломбу и выдернуть чеку, направить раструб на пламя и нажать на рычаг;

б) прочистить раструб, нажать на рычаг и направить на пламя;

в) нажать на рычаг, взяться за раструб рукой, направить на пламя и придерживать до прекращения горения.

14. По каким местным приметам можно определить стороны света:

+ а) стволам и коре деревьев, лишайнику и мху, склонам холмов и бугров, муравейникам, таянию снега;

б) кустарнику и сухой траве, направлению течения ручьев и рек, наезженной колеи;

в) полыньям на водоемах, скорости ветра, направлению комлей валяющихся на дороге спеленных деревьев.

15. Чтобы правильно преодолеть реку, следует:

а) преодолевать реку вплавь, использовать надувные матрацы и камеры;

б) выбрать место, где вода выглядит спокойной, и переходить реку вброд, используя надувные камеры;

в) выбрать удобное место и переходить реку вброд, используя шест или альпеншток.

16. Вы попали под завал в результате землетрясения, нога была придавлена упавшей конструкцией, но освобождена: шевелить пальцами и ступней ноги можете. В помещении есть немного свободного пространства, но выход заблокирован. Какова очередность ваших действий:

а) окажете себе первую помощь, установите подпорки под конструкции над вами, найдете теплые вещи или одеяло, чтобы укрыться, будете кричать, стучать металлическими предметами по трубам, плитам;

б) окажете себе первую помощь и начнете разгребать завал в сторону выхода из помещения;

в) установите подпорки под конструкции над вами, попытаетесь подойти к оконному проему, если найдете спички, попытаетесь развести небольшой костер, чтобы согреться и осмотреться вокруг.

17. Взрыв всегда сопровождается:

а) большим количеством выделяемой энергии;

б) резким повышением температуры;

в) незначительным дробящим действием.

18. Если сигнал об угрозе нападения противника застал вас дома, необходимо:

а) оставаться дома, плотно закрыв окна и двери;

б) быстро покинуть здание и спуститься в ближайшее убежище;

в) покинуть здание и отойти от него на безопасное расстояние.

19. Какой устав используется на кораблях Военно-Морского Флота (ВМФ) России?

а) морской устав;

б) устав Российского флота Петра I;

в) такой же как и в сухопутных войсках;

г) на кораблях внутренняя служба и обязанности должностных лиц дополнительно определяются корабельным уставом (ВМФ).

20. Допустимая толщина льда при передвижении по нему людей должна быть:

а) не менее 10 см; б) не менее 5 см; в) не менее 15 см.

21. Укажите самый простой способ обеззараживания воды в полевых условиях из предложенных ниже:

а) кипячение воды;

б) очистка через фильтр из песка, ваты и материи;

в) очистка через фильтр из песка и материи;

22. К поражающим факторам взрыва относятся:

а) осколочные поля и ударная волна;

б) высокая температура и волна прорыва;

в) сильная загазованность местности.

23. Боевые традиции – это:

а) исторически сложившиеся в армии и на флоте и передающиеся из поколения в поколение правила, обычаи и нормы поведения военнослужащих, связанные с образцовым выполнением боевых задач и несением воинской службы;

б) определенные правила и требования к несению службы и выполнению боевых задач;

ОБЖ-10А-14

в) специальные нормы, предъявленные к психологическим и нравственным качествам военнослужащего в период прохождения им воинской службы.

24. Из приведенных волевых качеств определите те, которые необходимы для выполнения воинского долга.

- + а) решительность, выдержка, настойчивость в преодолении препятствий и трудностей, которые возникают в процессе военной службы и мешают ей;
- б) агрессивность, настороженность, терпимость к себе и сослуживцам;
- в) терпимость по отношению к старшим по званию, лояльность по отношению к сослуживцам, непримиримость к неуставным взаимоотношениям.

25. Преданность своему Отечеству, любовь к Родине, стремление служить ее интересам и защищать ее от врагов – это:

- + а) патриотизм; б) героизм; в) воинский долг.

26. Когда гражданин приносит военную присягу в современных условиях?

- а) когда предложат командиры;
- б) когда захочет;

+ в) после прохождения начальной военной подготовки, но не позднее двух месяцев со дня прибытия в воинскую часть

27. Совершение выдающихся по своему значению действий и требующих от человека (воина) личного мужества, стойкости, готовности к самопожертвованию – это:

- а) героизм; б) мужество; в) воинская честь.

28. На какой срок заключается контракт для поступающих впервые на службу на должности солдат, сержантов и им равных?

- а) на один год;
- б) на два года;
- в) на три года;
- г) на пять лет.


29. При закрытом переломе бедра необходимо:

а) попытаться определить подвижность ноги, согнув ее в коленном суставе, придать пострадавшему возвышенное положение;

- б) дать обезболивающее средство, положить две шины: длинную, от подмышечной впадины до наружной лодыжки, и короткую, от промежности до внутренней лодыжки;

в) дать обезболивающее средство, положить шину из подручного материала от подмышечной впадины до коленного сустава.

30. Что Вы можете сказать о военнослужащих, имеющих такие погоны.



Определить воинское звание

Капитан +

Теоретическая часть 2

Задание 1.

1.1. Глядя на рисунок, напишите названия основных частей автомата.



1.2. Распределите операции в порядке их выполнения при сборке автомата после неполной разборки (ответ представьте последовательностью букв, например: в, а,...):

- а) Присоединяют шомпол;
- б) Присоединяют затворную раму с затвором к ствольной коробке;
- в) Присоединяют крышку ствольной коробки;
- г) Присоединяют магазин к автомату;
- д) Присоединяют затвор к затворной раме;
- е) Присоединяют возвратный механизм;
- ж) Присоединяют газовую трубку со ствольной накладкой;
- з) Вкладывают пенал в гнездо приклада;
- и) Спускают курок с боевого взвода.
- к) Ставлю курок на предохранитель

г в ж а б з и к в

Задание 3. Ситуационная задача. (максимальное количество баллов -10б.)

На автобусной остановке стоящий рядом мужчина побледнел и упал. Он - без сознания, кожные покровы бледные, с сероватым оттенком; зрачки широкие, на свет не реагируют.

Выберите правильные ответы и расположите их в порядке очередности выполнения:

1. Вызвать скорую помощь.
2. Убедиться в отсутствии пульса на сонной артерии и реакции зрачков на свет.
3. Позвать окружающих на помощь.
4. Определить признаки дыхания с помощью ворсинок ваты или зеркалаца.
5. Нанести прекардиальный удар и приступить к сердечно-легочной реанимации.
6. Попытаться добиться от мужчины, на что он все-таки жалуется.

3 2 4 1 7 10 9 5 8 6

7. Подробно расспросить окружающих, что предшествовало потере сознания.
8. Повернуть пострадавшего на живот.
9. Приложить к голове холод (целлофановый пакет со снегом или холодной водой).
10. Поднести к носу ватку с нашатырным спиртом.

Задание 4. Вопросы по правилам пожарной безопасности (максимальное количество баллов - 10б.)

1. В каком из перечисленных примеров могут создаться условия для возникновения процесса горения:

- а) бензин + кислород воздуха
- б) ткань, смоченная в азотной кислоте + тлеющая сигарета
- в) гранит + кислород воздуха + пламя горелки
- г) дерево + кислород воздуха + факел
- д) ацетон + кислород воздуха + искра от зажигалки

2. Как вы поступите если на вас загорелась одежда:

- а) побежите, постараетесь сорвать одежду
- б) остановитесь, упадете, покатитесь, сбивая пламя
- в) завернетесь в одеяло и обмотаетесь плотной тканью

3. Вы идете вечером и замечаете, что из подвала вашего дома валит дым и из дверей выбегают дети.

Ваши действия:

- а) подойдете и спросите, что там горит
- б) войдете внутрь и посмотрите, что горит
- в) пойдете домой и позвоните в пожарную охрану

4. Для приведения в действие огнетушителя ОУ необходимо:

- а) направить раструб на пламя
- б) сорвать пломбу и выдернуть чеку
- в) прочистить раструб
- г) нажать на рычаг
- д) взяться за раструб рукой и придерживать его

б) в) г)

Выберите правильные ответы и расположите их по очередности действий.

5. Как вы думаете большее или меньшее поражение, чем огонь, вызывает кипящая жидкость, попавшая на тело:

- а) меньшее
- б) большее
- в) не приходилось сталкиваться с этим.

6. Сжигание мусора на территории предприятия или во дворе :

- а) запрещается;
- б) разрешается, если расстояние от места сжигания до зданий и сооружений более 150 м;

- в.) разрешается в присутствии сотрудника противопожарной службы;
 г.) разрешается, если место сжигания обнесено барьерным ограждением.

Задание 2. Вопросы по правилам дорожного движения (максимальное количество баллов -106.)

1. Где разрешается кататься на санках и лыжах?



1. По дороге, предназначенной для пешеходов.
2. По правой стороне проезжей части.
3. В специально отведенных местах для массового отдыха, где нет опасности выезда на проезжую часть.

+

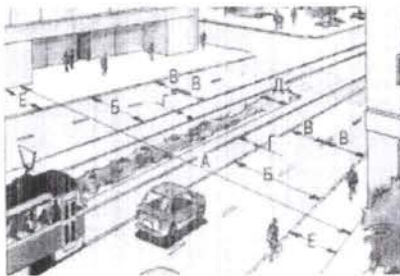
2. Разрешается ли в этой обстановке водителю левого автомобиля продолжать движение через пешеходный переход?



1. Разрешается.
2. Запрещается.

+

3. Основными элементами дороги в городе являются:



1. Обочина, кювет, тротуар.
2. Пешеходный переход, дорожное ограждение, обочина.
3. Проезжая часть, тротуар, разделительная полоса, трамвайные пути, обочина.

+

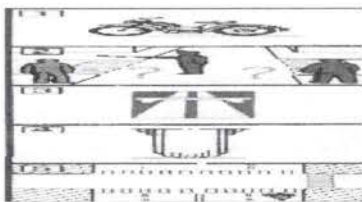
4. Где разрешается водить группы детей в населенном пункте?



1. Только по тротуару или пешеходной дорожке.
2. По краю проезжей части вдоль тротуара.

+

5. Разрешается ли эксплуатация мопеда, если рисунок протектора его шин полностью стерт?



1. Разрешается только в сухую погоду.
2. Разрешается.
3. Не разрешается.

6. Как должны двигаться лица, ведущие мотоцикл, мопед или велосипед, за пределами населенного пункта?

1. По краю проезжей части навстречу движению транспортных средств.
2. По краю проезжей части по ходу движения транспортных средств.
3. По тротуару.
4. По тротуару или велосипедной дорожке

7. Какие знаки предупреждают о приближении к железнодорожному переезду со шлагбаумом?



А Б В Г Д

1. Все знаки.
2. А и Б.
3. А и Д.
4. А и Г.
5. В и Г.
6. Г.

8. Если по вине пешехода, произошло ДТП в результате которого были повреждены автомобиль или придорожные постройки, нарушитель наказывается следующим образом:

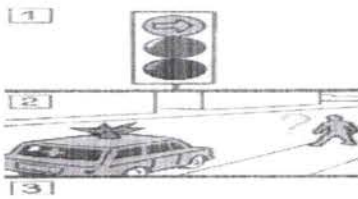
1. Инспектор ГИБДД предупредит его.
2. Нарушителя оштрафуют.
3. Нарушителя оштрафуют и он должен будет возместить ущерб от ДТП.

9. Имеет ли право водитель мопеда проезжать за этот знак?



1. Имеет право.
2. Не имеет права.

10. Что сказано в ПРАВИЛАХ о переходе дороги, если приближается автомобиль с проблесковым маячком или специальным сигналом?



1. Воздерживаться от выхода на проезжую часть.
2. Можно переходить дорогу, не мешая этому автомобилю.

Практическая часть

Задние 1 Наложение кровоостанавливающего жгута (закрутки) на бедро и плечо.

(максимальное количество баллов -10б.)

Условия выполнения нормативов. Статист, которому накладывают жгут (закрутку), лежит в удобном положении. Учащийся держит развернутый жгут в руках. Материал для наложения закрутки лежит на столе рядом. Жгут (закрутка) накладывается на одежду. На столе рядом лежит блокнот и карандаш. По заданию и команде преподавателя учащийся накладывает жгут (закрутку) на указанную область. Указывает время их наложения (часы, минуты) и записку подкладывает под последний ход жгута (закрутки), контролирует отсутствие пульса на периферическом сосуде. Этим заканчивается выполнение норматива.

Возможные ошибки, снижающие оценку на 1 балл.

- наложение жгута (закрутки) не на ту область (сторону);
- чрезмерное перетягивание конечности или наличие пульса на периферическом сосуде;
- не записано время наложения жгута (закрутки); наложение жгута (закрутки) на голое тело.

Время выполнения норматива

Наложение кровоостанавливающего жгута на плечо, бедро:

«отлично» — 25 сек.,

«хорошо» — 30 сек,

«удовлетворительно» — 35 сек.;

Задание 2 . Надевание противогаза ГП – 5 (максимальное количество баллов -10б.)

Баллы	Время надевание противогаза (в секундах)
10	8.0 сек
9	8.5 сек
8	9.0 сек
7	9.5 сек
6	10.0 сек
5	10.5 сек
4	11.0 сек
3	11.3 сек
2	11.7 сек
1	12.0 сек

10 баллов – лучший результат по времени (наименьшее время с учетом возможных ошибок)

9 баллов – второй результат;

8 баллов – третий результат;

7 баллов – четвертый и последующие результаты.

Исходное положение противогаза – наготове (сумка расстегнута, противогаз впереди). По команде «Газы!», учащиеся надевают противогаз.

чз б

ОБЖ-10А-3

ЗАДАНИЯ

ВСЕРОССИЙСКОЙ ОЛИМПИАДЫ ШКОЛЬНИКОВ ПО ОБЖ 2022-2023 г. г.

(школьный этап)

10 – 11 класс

ОЛИМПИАДА по ОБЖ

(10-11 класс)

Теоретическая часть : Как я знаю ОБЖ (максимальное количество баллов -50б.)

Выберите правильный ответ.

1. Приметами хоженной тропы могут быть:

- а) высокая трава, наличие следов птиц и зверей;
- + б) примятая трава, следы от транспорта, следы деятельности человека;
- в) растущие на тропе грибы, ягоды, сломанные ветки.

2. Как вы будете переправляться, если лед ненадежен, а обойти его нет возможности:

- а) с шестом, держа его горизонтально на уровне груди; б) ползком;
- в) обычным шагом, простукивая лед впереди палкой.

3. При заблаговременном оповещении о наводнении необходимо:

- а) открыть окна и двери нижних этажей;
- + б) включить телевизор, радио, выслушать сообщения и рекомендации;
- в) перенести на нижние этажи ценные вещи.

4. Неконтролируемое горение растительности, стихийно распространяющееся по лесной территории, - это:

- + а) стихийный пожар; б) природный пожар; в) лесной пожар.

5. РСЧС создана с целью:

- а) прогнозирования ЧС на территории Российской Федерации и организации проведения аварийно-спасательных и других неотложных работ;
- + б) объединения усилий органов власти, организаций и предприятий, их сил и средств в области предупреждения и ликвидации чрезвычайных ситуаций;
- в) обеспечение первоочередного жизнеобеспечения населения, пострадавшего в чрезвычайных ситуациях на территории Российской Федерации.

6. Если кровотечение сопровождается излиянием крови во внутренние органы, полости и ткани, то оно называется:

- + а) полостным; б) внутренним; в) закрытым.

7. Какова последовательность оказания первой помощи при коллапсе:

- а) пострадавшего уложить на живот, подложив подушку, нижнюю часть туловища и ноги несколько опустить, дать понюхать (вдохнуть) нашатырного спирта, согреть ноги;

б) пострадавшего уложить на спину, подложив подушку, нижнюю часть туловища и ноги пострадавшего приподнять как можно выше, дать понюхать (вдохнуть) нашатырного спирта, приложить лед к ногам;

в) пострадавшего уложить на спину, нижнюю часть туловища и ноги пострадавшего несколько приподнять, дать понюхать (вдохнуть) нашатырного спирта, согреть ноги.

8. Как высушить резиновые сапоги в походе:

а) набить сухой травой или бумагой и поставить их недалеко от костра;

в) вбить в землю около костра колышки и повесить на них сапоги;

г) вытащить из сапог стельки и протереть внутри досуха тряпкой, поставить сапоги к теплу, но не к открытому огню.

9. В солнечный полдень тень указывает направление на:

а) юг; б) север; в) запад; г) восток.

10. При внезапном наводнении до прибытия помощи следует:

а) оставаться на месте и ждать указаний по телевидению (радио), при этом вывесить белое или цветное полотнище, чтобы вас обнаружили;

б) быстро занять ближайшее возвышенное место и оставаться там до схода воды, при этом подавать сигналы, позволяющие вас обнаружить;

в) спуститься на нижний этаж и подавать световые сигналы.

11. Аммиак – это:

а) бесцветный газ с резким запахом, тяжелее воздуха;

б) газ с удушливым неприятным запахом, напоминающим запах гнилых плодов;

в) бесцветный газ с резким удушливым запахом, легче воздуха.

12. Вы играли с друзьями на улице. Вдруг на заводах и предприятиях загудели гудки. В жилом районе включили сирену. Ваши действия:

а) немедленно пойти домой и уточнить у родителей или соседей, что произошло в микрорайоне, городе, стране;

б) пойти домой, включить радио или телевизор на местной программе, выслушать информацию и выполнить содержащиеся в ней указания;

в) продолжить игру, не обращая внимания на происходящее вокруг вас.

13. Для приведения в действие огнетушителя ОУ необходимо:

а) сорвать пломбу и выдернуть чеку, направить раструб на пламя и нажать на рычаг;

б) прочистить раструб, нажать на рычаг и направить на пламя;

в) нажать на рычаг, взяться за раструб рукой, направить на пламя и придерживать до прекращения горения.

14. По каким местным приметам можно определить стороны света:

а) стволам и коре деревьев, лишайнику и мху, склонам холмов и бугров, муравейникам, таянию снега;

б) кустарнику и сухой траве, направлению течения ручьев и рек, наезженной колеи;

в) полянкам на водоемах, скорости ветра, направлению комлей валяющихся на дороге спеленных деревьев.

15. Чтобы правильно преодолеть реку, следует:

а) преодолевать реку вплавь, использовать надувные матрацы и камеры;

б) выбрать место, где вода выглядит спокойной, и переходить реку вброд, используя надувные камеры;

в) выбрать удобное место и переходить реку вброд, используя шест или альпеншток.

16. Вы попали под завал в результате землетрясения, нога была придавлена упавшей конструкцией, но освобождена: шевелить пальцами и ступней ноги можете. В помещении есть немного свободного пространства, но выход заблокирован. Какова очередность ваших действий:

а) окажете себе первую помощь, установите подпорки под конструкции над вами, найдете теплые вещи или одеяло, чтобы укрыться, будете кричать, стучать металлическими предметами по трубам, плитам;

б) окажете себе первую помощь и начнете разгребать завал в сторону выхода из помещения;

в) установите подпорки под конструкции над вами, попытаетесь подойти к оконному проему, если найдете спички, попытаетесь развести небольшой костер, чтобы согреться и осмотреться вокруг.

17. Взрыв всегда сопровождается:

а) большим количеством выделяемой энергии;

б) резким повышением температуры;

в) незначительным дробящим действием.

18. Если сигнал об угрозе нападения противника застал вас дома, необходимо:

а) оставаться дома, плотно закрыв окна и двери;

б) быстро покинуть здание и спуститься в ближайшее убежище;

в) покинуть здание и отойти от него на безопасное расстояние.

19. Какой устав используется на кораблях Военно-Морского Флота (ВМФ) России?

а) морской устав;

б) устав Российского флота Петра I;

в) такой же как и в сухопутных войсках;

г) на кораблях внутренняя служба и обязанности должностных лиц дополнительно определяются корабельным уставом (ВМФ).

20. Допустимая толщина льда при передвижении по нему людей должна быть:

а) не менее 10 см; б) не менее 5 см; в) не менее 15 см.

21. Укажите самый простой способ обеззараживания воды в полевых условиях из предложенных ниже:

а) кипячение воды;

б) очистка через фильтр из песка, ваты и материи;

в) очистка через фильтр из песка и материи;

22. К поражающим факторам взрыва относятся:

а) осколочные поля и ударная волна;

б) высокая температура и волна прорыва;

в) сильная загазованность местности.

23. Боевые традиции – это:

а) исторически сложившиеся в армии и на флоте и передающиеся из поколения в поколение правила, обычаи и нормы поведения военнослужащих, связанные с образцовым выполнением боевых задач и несением воинской службы;

б) определенные правила и требования к несению службы и выполнению боевых задач;

в) специальные нормы, предъявленные к психологическим и нравственным качествам военнослужащего в период прохождения им воинской службы.

24. Из приведенных волевых качеств определите те, которые необходимы для выполнения воинского долга.

а) решительность, вдержка, настойчивость в преодолении препятствий и трудностей, которые возникают в процессе военной службы и мешают ей;

б) агрессивность, настороженность, терпимость к себе и сослуживцам;

в) терпимость по отношению к старшим по званию, лояльность по отношению к сослуживцам, непримиримость к неуставным взаимоотношениям.

25. Преданность своему Отечеству, любовь к Родине, стремление служить ее интересам и защищать ее от врагов – это:

а) патриотизм; б) героизм; в) воинский долг.

26. Когда гражданин приносит военную присягу в современных условиях?

а) когда предложат командиры;

б) когда захочет;

в) после прохождения начальной военной подготовки, но не позднее двух месяцев со дня прибытия в воинскую часть

27. Совершение выдающихся по своему значению действий и требующих от человека (воина) личного мужества, стойкости, готовности к самопожертвованию – это:

а) героизм; б) мужество; в) воинская честь.

28. На какой срок заключается контракт для поступающих впервые на службу на должности солдат, сержантов и им равных?

а) на один год;

б) на два года;

в) на три года;

г) на пять лет.


29. При закрытом переломе бедра необходимо:

а) попытаться определить подвижность ноги, согнув ее в коленном суставе, придать пострадавшему возвышенное положение;

б) дать обезболивающее средство, положить две шины: длинную, от подмышечной впадины до наружной лодыжки, и короткую, от промежности до внутренней лодыжки;

в) дать обезболивающее средство, положить шину из подручного материала от подмышечной впадины до коленного сустава.

30. Что Вы можете сказать о военнослужащих, имеющих такие погоны.



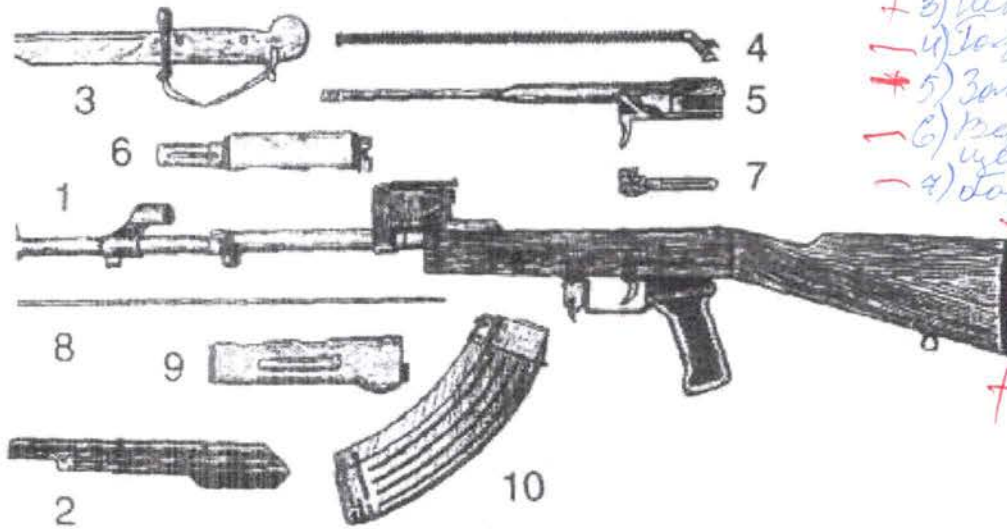
Определить воинское звание

Генерал-майор
капитан

Теоретическая часть 2

Задание 1.

1.1. Глядя на рисунок, напишите названия основных частей автомата.



- + 1) Ствольная коробка
- + 2) Крышка ствольной коробки
- + 3) Шомпол-нож
- 4) Газовая трубка
- + 5) Затвор
- 6) Верхняя часть цевья
- 4) Болт
- + 8) Магазин
- + 9) Нижняя часть цевья
- + 10) Магазины

1.2. Распределите операции в порядке их выполнения при сборке автомата после неполной разборки (ответ представьте последовательностью букв, например: в, а,..):

- а) Присоединяют шомпол;
- б) Присоединяют затворную раму с затвором к ствольной коробке;
- в) Присоединяют крышку ствольной коробки;
- г) Присоединяют магазин к автомату;
- д) Присоединяют затвор к затворной раме;
- е) Присоединяют возвратный механизм;
- ж) Присоединяют газовую трубку со ствольной накладкой;
- з) Вкладывают пенал в гнездо приклада;
- и) Спускают курок с боевого взвода.
- к) Ставят курок на предохранитель

а, е, г, б, ж, в, з, и

Задание 3. Ситуационная задача. (максимальное количество баллов -10б.)

На автобусной остановке стоящий рядом мужчина побледнел и упал. Он - без сознания, кожные покровы бледные, с сероватым оттенком; зрачки широкие, на свет не реагируют.

Выберите правильные ответы и расположите их в порядке очередности выполнения:

1. Вызвать скорую помощь.
2. Убедиться в отсутствии пульса на сонной артерии и реакции зрачков на свет.
3. Позвать окружающих на помощь.
4. Определить признаки дыхания с помощью ворсинок ваты или зеркала.
5. Нанести прекардиальный удар и приступить к сердечно-легочной реанимации.
6. Попытаться добиться от мужчины, на что он все-таки жалуется.

7. Подробно расспросить окружающих, что предшествовало потере сознания.
8. Повернуть пострадавшего на живот.
9. Приложить к голове холод (целлофановый пакет со снегом или холодной водой).
10. Поднести к носу ватку с нашатырным спиртом.

+ 2, 4, 7, 8, 9, 5

Задание 4. Вопросы по правилам пожарной безопасности (максимальное количество баллов - 10б.)

1. В каком из перечисленных примеров могут создаться условия для возникновения процесса горения:

- а) бензин + кислород воздуха
- б) ткань, смоченная в азотной кислоте + тлеющая сигарета
- в) гранит + кислород воздуха + пламя горелки
- + г) дерево + кислород воздуха + факел
- д) ацетон + кислород воздуха + искра от зажигалки

2. Как вы поступите если на вас загорелась одежда:

- а) побежите, постараетесь сорвать одежду
- б) остановитесь, упадете, покатитесь, сбивая пламя
- в) завернетесь в одеяло и обмотаетесь плотной тканью

3. Вы идете вечером и замечаете, что из подвала вашего дома валит дым и из дверей выбегают дети.

Ваши действия:

- а) подойдете и спросите, что там горит
- + б) войдете внутрь и посмотрите, что горит
- в) пойдете домой и позвоните в пожарную охрану

4. Для приведения в действие огнетушителя ОУ необходимо:

- а) направить раструб на пламя
- б) сорвать пломбу и выдернуть чеку
- в) прочистить раструб
- г) нажать на рычаг
- д) взяться за раструб рукой и придерживать его

+ 0, 6, 8, 9, 2

Выберите правильные ответы и расположите их по очередности действий.

5. Как вы думаете большее или меньшее поражение, чем огонь, вызывает кипящая жидкость, попавшая на тело:

- а) меньшее
- б) большее
- в) не приходилось сталкиваться с этим.


6. Сжигание мусора на территории предприятия или во дворе :

- а.) запрещается;
- б.) разрешается, если расстояние от места сжигания до зданий и сооружений более 150 м;

- в.) разрешается в присутствии сотрудника противопожарной службы;
 г.) разрешается, если место сжигания обнесено барьерным ограждением.

Задание 2. Вопросы по правилам дорожного движения (максимальное количество баллов -106.)


1. Где разрешается кататься на санках и лыжах?



1. По дороге, предназначенной для пешеходов.
2. По правой стороне проезжей части.
3. В специально отведенных местах для массового отдыха, где нет опасности выезда на проезжую часть.

+

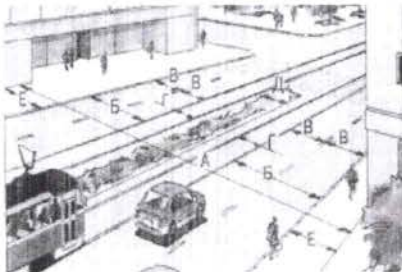
2. Разрешается ли в этой обстановке водителю левого автомобиля продолжать движение через пешеходный переход?



1. Разрешается.
2. Запрещается.

+

3. Основными элементами дороги в городе являются:



1. Обочина, кювет, тротуар.
2. Пешеходный переход, дорожное ограждение, обочина.
3. Проезжая часть, тротуар, разделительная полоса, трамвайные пути, обочина.

+

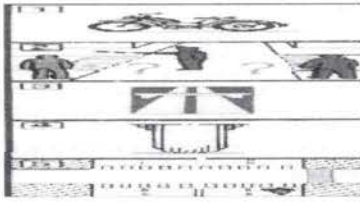
4. Где разрешается водить группы детей в населенном пункте?



1. Только по тротуару или пешеходной дорожке.
2. По краю проезжей части вдоль тротуара.

+

5. Разрешается ли эксплуатация мопеда, если рисунок протектора его шин полностью стерт?



1. Разрешается только в сухую погоду.
2. Разрешается.
3. Не разрешается.



6. Как должны двигаться лица, ведущие мотоцикл, мопед или велосипед, за пределами населенного пункта?

1. По краю проезжей части навстречу движению транспортных средств.
2. По краю проезжей части по ходу движения транспортных средств.
3. По тротуару.
4. По тротуару или велосипедной дорожке



7. Какие знаки предупреждают о приближении к железнодорожному переезду со шлагбаумом?



А Б В Г Д

1. Все знаки.
2. А и Б.
3. А и Д.
4. А и Г.
5. В и Г.
6. Г.



8. Если по вине пешехода, произошло ДТП в результате которого были повреждены автомобиль или придорожные постройки, нарушитель наказывается следующим образом:

1. Инспектор ГИБДД предупредит его.
2. Нарушителя оштрафуют.
3. Нарушителя оштрафуют и он должен будет возместить ущерб от ДТП.



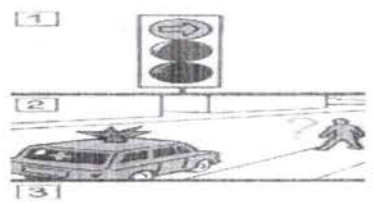
9. Имеет ли право водитель мопеда проезжать за этот знак?



1. Имеет право.
2. Не имеет права.



10. Что сказано в ПРАВИЛАХ о переходе дороги, если приближается автомобиль с проблесковым маячком или специальным сигналом?



- ① Воздерживаться от выхода на проезжую часть.
- 2. Можно переходить дорогу, не мешая этому автомобилю.

Практическая часть

Задние 1 Наложение кровоостанавливающего жгута (закрутки) на бедро и плечо.

(максимальное количество баллов -10б.)

Условия выполнения нормативов. Статист, которому накладывают жгут (закрутку), лежит в удобном положении. Учащийся держит развернутый жгут в руках. Материал для наложения закрутки лежит на столе рядом. Жгут (закрутка) накладывается на одежду. На столе рядом лежит блокнот и карандаш. По заданию и команде преподавателя учащийся накладывает жгут (закрутку) на указанную область. Указывает время их наложения (часы, минуты) и записку подкладывает под последний ход жгута (закрутки), контролирует отсутствие пульса на периферическом сосуде. Этим заканчивается выполнение норматива.

Возможные ошибки, снижающие оценку на 1 балл.

- наложение жгута (закрутки) не на ту область (сторону);
- чрезмерное перетягивание конечности или наличие пульса на периферическом сосуде;
- не записано время наложения жгута (закрутки); наложение жгута (закрутки) на голое тело.

Время выполнения норматива

Наложение кровоостанавливающего жгута на плечо, бедро:

«отлично» — 25 сек.,

«хорошо» — 30 сек,

«удовлетворительно» — 35 сек.;

Задание 2 . Надевание противогаза ГП – 5 (максимальное количество баллов -10б.)

Баллы	Время надевание противогаза (в секундах)
10	8.0 сек
9	8.5 сек
8	9.0 сек
7	9.5 сек
6	10.0 сек
5	10.5 сек
4	11.0 сек
3	11.3 сек
2	11.7 сек
1	12.0 сек

10 баллов – лучший результат по времени (наименьшее время с учетом возможных ошибок)

9 баллов – второй результат;

8 баллов – третий результат;

7 баллов – четвертый и последующие результаты.

Исходное положение противогаза – наготове (сумка расстегнута, противогаз впереди). По команде «Газы!», учащиеся надевают противогаз.

415

ОБЖ-10-45

ЗАДАНИЯ

ВСЕРОССИЙСКОЙ ОЛИМПИАДЫ ШКОЛЬНИКОВ ПО ОБЖ 2022-2023 г. г.

(школьный этап)

10 – 11 класс

ОЛИМПИАДА по ОБЖ

(10-11 класс)

Теоретическая часть : Как я знаю ОБЖ (максимальное количество баллов -506.)

Выберите правильный ответ.

1. Приметами хоженной тропы могут быть:

- а) высокая трава, наличие следов птиц и зверей;
- б) примятая трава, следы от транспорта, следы деятельности человека;
- в) растущие на тропе грибы, ягоды, сломанные ветки.

2. Как вы будете переправляться, если лед ненадежен, а обойти его нет возможности:

- а) с шестом, держа его горизонтально на уровне груди; б) ползком;
- в) обычным шагом, простукивая лед впереди палкой.

3. При заблаговременном оповещении о наводнении необходимо:

- а) открыть окна и двери нижних этажей;
- б) включить телевизор, радио, выслушать сообщения и рекомендации;
- в) перенести на нижние этажи ценные вещи.

4. Неконтролируемое горение растительности, стихийно распространяющееся по лесной территории, - это:

- а) стихийный пожар; б) природный пожар; в) лесной пожар.

5. РСЧС создана с целью:

- а) прогнозирования ЧС на территории Российской Федерации и организации проведения аварийно-спасательных и других неотложных работ;
- б) объединения усилий органов власти, организаций и предприятий, их сил и средств в области предупреждения и ликвидации чрезвычайных ситуаций;
- в) обеспечение первоочередного жизнеобеспечения населения, пострадавшего в чрезвычайных ситуациях на территории Российской Федерации.

6. Если кровотечение сопровождается излиянием крови во внутренние органы, полости и ткани, то оно называется:

- а) полостным; б) внутренним; в) закрытым.

7. Какова последовательность оказания первой помощи при коллапсе:

- а) пострадавшего уложить на живот, подложив подушку, нижнюю часть туловища и ноги несколько опустить, дать понюхать (вдохнуть) нашатырного спирта, согреть ноги;

одж-10-45

б) пострадавшего уложить на спину, подложив подушку, нижнюю часть туловища и ноги пострадавшего приподнять как можно выше, дать понюхать (вдохнуть) нашатырного спирта, приложить лед к ногам;

в) пострадавшего уложить на спину, нижнюю часть туловища и ноги пострадавшего несколько приподнять, дать понюхать (вдохнуть) нашатырного спирта, согреть ноги.

8. Как высушить резиновые сапоги в походе:

а) набить сухой травой или бумагой и поставить их недалеко от костра;

в) вбить в землю около костра колышки и повесить на них сапоги;

г) вытащить из сапог стельки и протереть внутри досуха тряпкой, поставить сапоги к теплу, но не к открытому огню.

9. В солнечный полдень тень указывает направление на:

а) юг; б) север; в) запад; г) восток.

10. При внезапном наводнении до прибытия помощи следует:

а) оставаться на месте и ждать указаний по телевидению (радио), при этом вывесить белое или цветное полотнище, чтобы вас обнаружили;

б) быстро занять ближайшее возвышенное место и оставаться там до схода воды, при этом подавать сигналы, позволяющие вас обнаружить;

в) спуститься на нижний этаж и подавать световые сигналы.

11. Аммиак – это:

а) бесцветный газ с резким запахом, тяжелее воздуха;

б) газ с удушливым неприятным запахом, напоминающим запах гнилых плодов;

в) бесцветный газ с резким удушливым запахом, легче воздуха.

12. Вы играли с друзьями на улице. Вдруг на заводах и предприятиях загудели гудки. В жилом районе включили сирену. Ваши действия:

а) немедленно пойти домой и уточнить у родителей или соседей, что произошло в микрорайоне, городе, стране;

б) пойти домой, включить радио или телевизор на местной программе, выслушать информацию и выполнить содержащиеся в ней указания;

в) продолжить игру, не обращая внимания на происходящее вокруг вас.

13. Для приведения в действие огнетушителя ОУ необходимо:

а) сорвать пломбу и выдернуть чеку, направить раструб на пламя и нажать на рычаг;

б) прочистить раструб, нажать на рычаг и направить на пламя;

в) нажать на рычаг, взяться за раструб рукой, направить на пламя и придерживать до прекращения горения.

14. По каким местным приметам можно определить стороны света:

а) стволам и коре деревьев, лишайнику и мху, склонам холмов и бугров, муравейникам, таянию снега;

б) кустарнику и сухой траве, направлению течения ручьев и рек, наезженной колеи;

в) полянкам на водоемах, скорости ветра, направлению комлей валяющихся на дороге спиленных деревьев.

15. Чтобы правильно преодолеть реку, следует:

а) преодолевать реку вплавь, использовать надувные матрацы и камеры;

б) выбрать место, где вода выглядит спокойной, и переходить реку вброд, используя надувные камеры;

+ в) выбрать удобное место и переходить реку вброд, используя шест или альпеншток.

16. Вы попали под завал в результате землетрясения, нога была придавлена упавшей конструкцией, но освобождена: шевелить пальцами и ступней ноги можете. В помещении есть немного свободного пространства, но выход заблокирован. Какова очередность ваших действий:

а) окажете себе первую помощь, установите подпорки под конструкции над вами, найдете теплые вещи или одеяло, чтобы укрыться, будете кричать, стучать металлическими предметами по трубам, плитам;

б) окажете себе первую помощь и начнете разгребать завал в сторону выхода из помещения;

- в) установите подпорки под конструкции над вами, попытаетесь подойти к оконному проему, если найдете спички, попытаетесь развести небольшой костер, чтобы согреться и осмотреться вокруг.

17. Взрыв всегда сопровождается:

- а) большим количеством выделяемой энергии;

б) резким повышением температуры;

в) незначительным дробящим действием.

18. Если сигнал об угрозе нападения противника застал вас дома, необходимо:

а) оставаться дома, плотно закрыв окна и двери;

- б) быстро покинуть здание и спуститься в ближайшее убежище;

в) покинуть здание и отойти от него на безопасное расстояние.

19. Какой устав используется на кораблях Военно-Морского Флота (ВМФ) России?

а) морской устав;

б) устав Российского флота Петра I;

в) такой же как и в сухопутных войсках;

+ г) на кораблях внутренняя служба и обязанности должностных лиц дополнительно определяются корабельным уставом (ВМФ).

20. Допустимая толщина льда при передвижении по нему людей должна быть:

+ а) не менее 10 см; б) не менее 5 см; в) не менее 15 см.

21. Укажите самый простой способ обеззараживания воды в полевых условиях из предложенных ниже:

- а) кипячение воды;

б) очистка через фильтр из песка, ваты и материи;

в) очистка через фильтр из песка и материи;

22. К поражающим факторам взрыва относятся:

+ а) осколочные поля и ударная волна;

б) высокая температура и волна прорыва;

в) сильная загазованность местности.

23. Боевые традиции – это:

+ а) исторически сложившиеся в армии и на флоте и передающиеся из поколения в поколение правила, обычаи и нормы поведения военнослужащих, связанные с образцовым выполнением боевых задач и несением воинской службы;

б) определенные правила и требования к несению службы и выполнению боевых задач;

Обж-10-15

в) специальные нормы, предъявленные к психологическим и нравственным качествам военнослужащего в период прохождения им воинской службы.

24. Из приведенных волевых качеств определите те, которые необходимы для выполнения воинского долга.

- а) решительность, вдержка, настойчивость в преодолении препятствий и трудностей, которые возникают в процессе военной службы и мешают ей;
- б) агрессивность, настороженность, терпимость к себе и сослуживцам;
- в) терпимость по отношению к старшим по званию, лояльность по отношению к сослуживцам, непримиримость к неуставным взаимоотношениям.

25. Преданность своему Отечеству, любовь к Родине, стремление служить ее интересам и защищать ее от врагов – это:

- а) патриотизм; б) героизм; в) воинский долг.

26. Когда гражданин приносит военную присягу в современных условиях?

- а) когда предложат командиры;
- б) когда захочет;

в) после прохождения начальной военной подготовки, но не позднее двух месяцев со дня прибытия в воинскую часть

27. Совершение выдающихся по своему значению действий и требующих от человека (воина) личного мужества, стойкости, готовности к самопожертвованию – это:

- а) героизм; б) мужество; в) воинская честь.


28. На какой срок заключается контракт для поступающих впервые на службу на должности солдат, сержантов и им равных?

- а) на один год;
- б) на два года;
- в) на три года;
- г) на пять лет.

29. При закрытом переломе бедра необходимо:

- а) попытаться определить подвижность ноги, согнув ее в коленном суставе, придать пострадавшему возвышенное положение;
- б) дать обезболивающее средство, положить две шины: длинную, от подмышечной впадины до наружной лодыжки, и короткую, от промежности до внутренней лодыжки;
- в) дать обезболивающее средство, положить шину из подручного материала от подмышечной впадины до коленного сустава.

30. Что Вы можете сказать о военнослужащих, имеющих такие погоны.



Определить воинское звание

Капитан

Теоретическая часть 2

Задание 1.

1.1. Глядя на рисунок, напишите названия основных частей автомата.



1.2. Распределите операции в порядке их выполнения при сборке автомата после неполной разборки (ответ представьте последовательностью букв, например: в, а,...):

- а) Присоединяют шомпол;
- б) Присоединяют затворную раму с затвором к ствольной коробке;
- в) Присоединяют крышку ствольной коробки;
- г) Присоединяют магазин к автомату;
- д) Присоединяют затвор к затворной раме;
- е) Присоединяют возвратный механизм;
- ж) Присоединяют газовую трубку со ствольной накладкой;
- з) Вкладывают пенал в гнездо приклада;
- и) Спускают курок с боевого взвода.
- к) Ставят курок на предохранитель

~~згеджкзбда~~
 абвзгзжик

Задание 3. Ситуационная задача. (максимальное количество баллов -10б.)

На автобусной остановке стоящий рядом мужчина побледнел и упал. Он - без сознания, кожные покровы бледные, с сероватым оттенком; зрачки широкие, на свет не реагируют.

Выберите правильные ответы и расположите их в порядке очередности выполнения:

- 1. Вызвать скорую помощь.
- 2. Убедиться в отсутствии пульса на сонной артерии и реакции зрачков на свет.
- 3. Позвать окружающих на помощь.
- 4. Определить признаки дыхания с помощью ворсинок ваты или зеркала.
- 5. Нанести прекардиальный удар и приступить к сердечно-легочной реанимации.
- 6. Попытаться добиться от мужчины, на что он все-таки жалуется.

243157

7. Подробно расспросить окружающих, что предшествовало потере сознания.
8. Повернуть пострадавшего на живот.
9. Приложить к голове холод (целлофановый пакет со снегом или холодной водой).
10. Поднести к носу ватку с нашатырным спиртом.

Задание 4. Вопросы по правилам пожарной безопасности (максимальное количество баллов - 10б.)

1. В каком из перечисленных примеров могут создаться условия для возникновения процесса горения:

- а) бензин + кислород воздуха
- б) ткань, смоченная в азотной кислоте + тлеющая сигарета
- в) гранит + кислород воздуха + пламя горелки
- г) дерево + кислород воздуха + факел
- д) ацетон + кислород воздуха + искра от зажигалки

2. Как вы поступите если на вас загорелась одежда:

- а) побежите, постараетесь сорвать одежду
- б) остановитесь, упадете, покатитесь, сбивая пламя
- в) завернетесь в одеяло и обмотаетесь плотной тканью

3. Вы идете вечером и замечаете, что из подвала вашего дома валит дым и из дверей выбегают дети.

Ваши действия:

- а) подойдете и спросите, что там горит
- б) войдете внутрь и посмотрите, что горит
- в) пойдете домой и позвоните в пожарную охрану

4. Для приведения в действие огнетушителя ОУ необходимо:

- а) направить раструб на пламя
- б) сорвать пломбу и выдернуть чеку
- в) прочистить раструб
- г) нажать на рычаг
- д) взяться за раструб рукой и придерживать его

Выберите правильные ответы и расположите их по очередности действий.

5. Как вы думаете большее или меньшее поражение, чем огонь, вызывает кипящая жидкость, попавшая на тело:

- а) меньшее
- б) большее
- в) не приходилось сталкиваться с этим.

6. Сжигание мусора на территории предприятия или во дворе :

- а.) запрещается;
- б.) разрешается, если расстояние от места сжигания до зданий и сооружений более 150 м;

в.) разрешается в присутствии сотрудника противопожарной службы;

п.) разрешается, если место сжигания обнесено барьерным ограждением.

Задание 2. Вопросы по правилам дорожного движения (максимальное количество баллов -106.)

1. Где разрешается кататься на санках и лыжах?



1. По дороге, предназначенной для пешеходов.
2. По правой стороне проезжей части.
3. В специально отведенных местах для массового отдыха, где нет опасности выезда на проезжую часть.

+

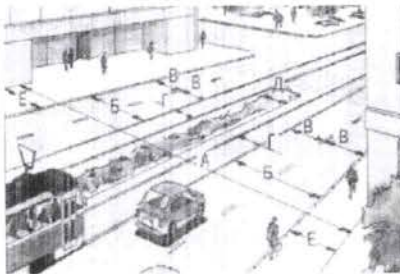
2. Разрешается ли в этой обстановке водителю левого автомобиля продолжать движение через пешеходный переход?



1. Разрешается.
2. Запрещается.

+

3. Основными элементами дороги в городе являются:



1. Обочина, кювет, тротуар.
2. Пешеходный переход, дорожное ограждение, обочина.
3. Проезжая часть, тротуар, разделительная полоса, трамвайные пути, обочина.

+

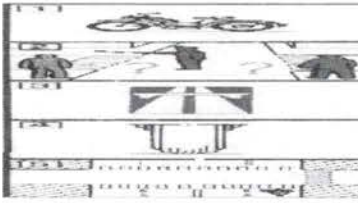
4. Где разрешается водить группы детей в населенном пункте?



1. Только по тротуару или пешеходной дорожке.
2. По краю проезжей части вдоль тротуара.

+

5. Разрешается ли эксплуатация мопеда, если рисунок протектора его шин полностью стерт?



1. Разрешается только в сухую погоду.
2. Разрешается.
3. Не разрешается.

6. Как должны двигаться лица, ведущие мотоцикл, мопед или велосипед, за пределами населенного пункта?

1. По краю проезжей части навстречу движению транспортных средств.
2. По краю проезжей части по ходу движения транспортных средств.
3. По тротуару.
4. По тротуару или велосипедной дорожке

7. Какие знаки предупреждают о приближении к железнодорожному переезду со шлагбаумом?



А Б В Г Д

1. Все знаки.
2. А и Б.
3. А и Д.
4. А и Г.
5. В и Г.
6. Г.

8. Если по вине пешехода, произошло ДТП в результате которого были повреждены автомобиль или придорожные постройки, нарушитель наказывается следующим образом:

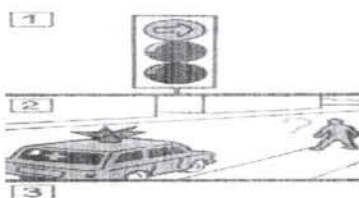
1. Инспектор ГИБДД предупредит его.
2. Нарушителя оштрафуют.
3. Нарушителя оштрафуют и он должен будет возместить ущерб от ДТП.

9. Имеет ли право водитель мопеда проезжать за этот знак?



1. Имеет право.
2. Не имеет права.

10. Что сказано в ПРАВИЛАХ о переходе дороги, если приближается автомобиль с проблесковым маячком или специальным сигналом?



1. Воздерживаться от выхода на проезжую часть.
2. Можно переходить дорогу, не мешая этому автомобилю.



Практическая часть

Задние 1 Наложение кровоостанавливающего жгута (закрутки) на бедро и плечо.

(максимальное количество баллов -10б.)

Условия выполнения нормативов. Статист, которому накладывают жгут (закрутку), лежит в удобном положении. Учащийся держит развернутый жгут в руках. Материал для наложения закрутки лежит на столе рядом. Жгут (закрутка) накладывается на одежду. На столе рядом лежит блокнот и карандаш. По заданию и команде преподавателя учащийся накладывает жгут (закрутку) на указанную область. Указывает время их наложения (часы, минуты) и записку подкладывает под последний ход жгута (закрутки), контролирует отсутствие пульса на периферическом сосуде. Этим заканчивается выполнение норматива.

Возможные ошибки, снижающие оценку на 1 балл.

- наложение жгута (закрутки) не на ту область (сторону);
- чрезмерное перетягивание конечности или наличие пульса на периферическом сосуде;
- не записано время наложения жгута (закрутки); наложение жгута (закрутки) на голое тело.

Время выполнения норматива

Наложение кровоостанавливающего жгута на плечо, бедро:

«отлично» — 25 сек.,

«хорошо» — 30 сек,

«удовлетворительно» — 35 сек.;

Задание 2 . Надевание противогаза ГП – 5 (максимальное количество баллов -10б.)

Баллы	Время надевание противогаза (в секундах)
10	8.0 сек
9	8.5 сек
8	9.0 сек
7	9.5 сек
6	10.0 сек
5	10.5 сек
4	11.0 сек
3	11.3 сек
2	11.7 сек
1	12.0 сек

Объём - 10 - 45

10 баллов – лучший результат по времени (наименьшее время с учетом возможных ошибок)

9 баллов – второй результат;

8 баллов – третий результат;

7 баллов – четвертый и последующие результаты.

Исходное положение противогаза – наготове (сумка расстегнута, противогаз впереди). По команде «Газы!», учащиеся надевают противогаз.

ЗАДАНИЯ

ВСЕРОССИЙСКОЙ ОЛИМПИАДЫ ШКОЛЬНИКОВ ПО ОБЖ 2022-2023 г. г.

(школьный этап)

10 – 11 класс

ОЛИМПИАДА по ОБЖ

(10-11 класс)

Теоретическая часть : Как я знаю ОБЖ (максимальное количество баллов -50б.)

Выберите правильный ответ.

1. Приметами хоженной тропы могут быть:

- a) высокая трава, наличие следов птиц и зверей;
- б) примятая трава, следы от транспорта, следы деятельности человека;
- в) растущие на тропе грибы, ягоды, сломанные ветки.

2. Как вы будете переправляться, если лед ненадежен, а обойти его нет возможности:

- a) с шестом, держа его горизонтально на уровне груди; б) ползком;
- в) обычным шагом, простукивая лед впереди палкой.

3. При заблаговременном оповещении о наводнении необходимо:

- a) открыть окна и двери нижних этажей;
- б) включить телевизор, радио, выслушать сообщения и рекомендации;
- в) перенести на нижние этажи ценные вещи.

4. Неконтролируемое горение растительности, стихийно распространяющееся по лесной территории, - это:

- a) стихийный пожар; б) природный пожар; в) лесной пожар.

5. РСЧС создана с целью:

- a) прогнозирования ЧС на территории Российской Федерации и организации проведения аварийно-спасательных и других неотложных работ;
- б) объединения усилий органов власти, организаций и предприятий, их сил и средств в области предупреждения и ликвидации чрезвычайных ситуаций;
- в) обеспечение первоочередного жизнеобеспечения населения, пострадавшего в чрезвычайных ситуациях на территории Российской Федерации.

6. Если кровотечение сопровождается излиянием крови во внутренние органы, полости и ткани, то оно называется:

- a) полостным; б) внутренним; в) закрытым.

7. Какова последовательность оказания первой помощи при коллапсе:

- a) пострадавшего уложить на живот, подложив подушку, нижнюю часть туловища и ноги несколько опустить, дать понюхать (вдохнуть) нашатырного спирта, согреть ноги;

б) пострадавшего уложить на спину, подложив подушку, нижнюю часть туловища и ноги пострадавшего приподнять как можно выше, дать понюхать (вдохнуть) нашатырного спирта, приложить лед к ногам;

в) пострадавшего уложить на спину, нижнюю часть туловища и ноги пострадавшего несколько приподнять, дать понюхать (вдохнуть) нашатырного спирта, согреть ноги.

8. Как высушить резиновые сапоги в походе:

а) набить сухой травой или бумагой и поставить их недалеко от костра;

в) вбить в землю около костра колышки и повесить на них сапоги;

г) вытащить из сапог стельки и протереть внутри досуха тряпкой, поставить сапоги к теплу, но не к открытому огню.

9. В солнечный полдень тень указывает направление на:

а) юг; б) север; в) запад; г) восток.

10. При внезапном наводнении до прибытия помощи следует:

а) оставаться на месте и ждать указаний по телевидению (радио), при этом вывесить белое или цветное полотнище, чтобы вас обнаружили;

б) быстро занять ближайшее возвышенное место и оставаться там до схода воды, при этом подавать сигналы, позволяющие вас обнаружить;

в) спуститься на нижний этаж и подавать световые сигналы.

11. Аммиак – это:

а) бесцветный газ с резким запахом, тяжелее воздуха;

б) газ с удушливым неприятным запахом, напоминающим запах гнилых плодов;

в) бесцветный газ с резким удушливым запахом, легче воздуха.

12. Вы играли с друзьями на улице. Вдруг на заводах и предприятиях загудели гудки. В жилом районе включили сирену. Ваши действия:

а) немедленно пойти домой и уточнить у родителей или соседей, что произошло в микрорайоне, городе, стране;

б) пойти домой, включить радио или телевизор на местной программе, выслушать информацию и выполнить содержащиеся в ней указания;

в) продолжить игру, не обращая внимания на происходящее вокруг вас.

13. Для приведения в действие огнетушителя ОУ необходимо:

а) сорвать пломбу и выдернуть чеку, направить раструб на пламя и нажать на рычаг;

б) прочистить раструб, нажать на рычаг и направить на пламя;

в) нажать на рычаг, взяться за раструб рукой, направить на пламя и придерживать до прекращения горения.

14. По каким местным приметам можно определить стороны света:

а) стволам и коре деревьев, лишайнику и мху, склонам холмов и бугров, муравейникам, таянию снега;

б) кустарнику и сухой траве, направлению течения ручьев и рек, наезженной колее;

в) польням на водоемах, скорости ветра, направлению комлей валяющихся на дороге спиленных деревьев.

15. Чтобы правильно преодолеть реку, следует:

а) преодолевать реку вплавь, использовать надувные матрацы и камеры;

б) выбрать место, где вода выглядит спокойной, и переходить реку вброд, используя надувные камеры;

+ в) выбрать удобное место и переходить реку вброд, используя шест или альпеншток.

16. Вы попали под завал в результате землетрясения, нога была придавлена упавшей конструкцией, но освобождена: шевелить пальцами и ступней ноги можете. В помещении есть немного свободного пространства, но выход заблокирован. Какова очередность ваших действий:

а) окажете себе первую помощь, установите подпорки под конструкции над вами, найдете теплые вещи или одеяло, чтобы укрыться, будете кричать, стучать металлическими предметами по трубам, плитам;

б) окажете себе первую помощь и начнете разгребать завал в сторону выхода из помещения;

- в) установите подпорки под конструкции над вами, попытаетесь подойти к оконному проему, если найдете спички, попытаетесь развести небольшой костер, чтобы согреться и осмотреться вокруг.

17. Взрыв всегда сопровождается:

+ а) большим количеством выделяемой энергии;

б) резким повышением температуры;

в) незначительным дробящим действием.

18. Если сигнал об угрозе нападения противника застал вас дома, необходимо:

+ а) оставаться дома, плотно закрыв окна и двери;

б) быстро покинуть здание и спуститься в ближайшее убежище;

в) покинуть здание и отойти от него на безопасное расстояние.

19. Какой устав используется на кораблях Военно-Морского Флота (ВМФ) России?

а) морской устав;

б) устав Российского флота Петра I;

- в) такой же как и в сухопутных войсках;

г) на кораблях внутренняя служба и обязанности должностных лиц дополнительно определяются корабельным уставом (ВМФ).

20. Допустимая толщина льда при передвижении по нему людей должна быть:

+ а) не менее 10 см; б) не менее 5 см; в) не менее 15 см.

21. Укажите самый простой способ обеззараживания воды в полевых условиях из предложенных ниже:

+ а) кипячение воды;

б) очистка через фильтр из песка, ваты и материи;

в) очистка через фильтр из песка и материи;

22. К поражающим факторам взрыва относятся:

+ а) осколочные поля и ударная волна;

б) высокая температура и волна прорыва;

в) сильная загазованность местности.

23. Боевые традиции – это:

+ а) исторически сложившиеся в армии и на флоте и передающиеся из поколения в поколение правила, обычаи и нормы поведения военнослужащих, связанные с образцовым выполнением боевых задач и несением воинской службы;

б) определенные правила и требования к несению службы и выполнению боевых задач;

в) специальные нормы, предъявленные к психологическим и нравственным качествам военнослужащего в период прохождения им воинской службы.

24. Из приведенных волевых качеств определите те, которые необходимы для выполнения воинского долга.

а) решительность, выдержка, настойчивость в преодолении препятствий и трудностей, которые возникают в процессе военной службы и мешают ей;

б) агрессивность, настороженность, терпимость к себе и сослуживцам;

в) терпимость по отношению к старшим по званию, лояльность по отношению к сослуживцам, непримиримость к неуставным взаимоотношениям.

25. Преданность своему Отечеству, любовь к Родине, стремление служить ее интересам и защищать ее от врагов – это:

а) патриотизм; б) героизм; в) воинский долг.

26. Когда гражданин приносит военную присягу в современных условиях?

а) когда предложат командиры;

б) когда захочет;

в) после прохождения начальной военной подготовки, но не позднее двух месяцев со дня прибытия в воинскую часть

27. Совершение выдающихся по своему значению действий и требующих от человека (воина) личного мужества, стойкости, готовности к самопожертвованию – это:

а) героизм; б) мужество; в) воинская честь.

28. На какой срок заключается контракт для поступающих впервые на службу на должности солдат, сержантов и им равных?

а) на один год;

б) на два года;

в) на три года;

г) на пять лет.


29. При закрытом переломе бедра необходимо:

а) попытаться определить подвижность ноги, согнув ее в коленном суставе, придать пострадавшему возвышенное положение;

б) дать обезболивающее средство, положить две шины: длинную, от подмышечной впадины до наружной лодыжки, и короткую, от промежности до внутренней лодыжки;

в) дать обезболивающее средство, положить шину из подручного материала от подмышечной впадины до коленного сустава.

30. Что Вы можете сказать о военнослужащих, имеющих такие погоны.



Определить воинское звание

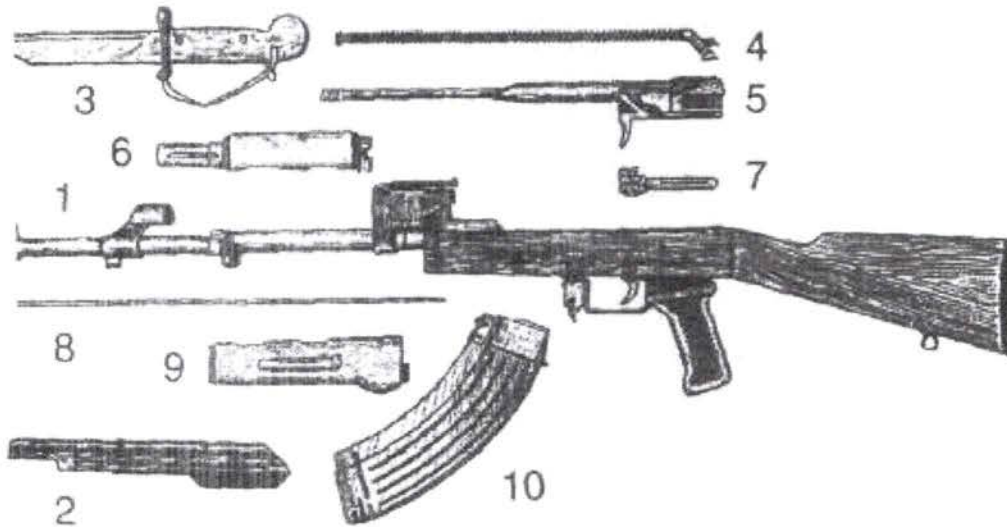
лейтенант.

капитан

Теоретическая часть 2

Задание 1.

1.1. Глядя на рисунок, напишите названия основных частей автомата.



1.2. Распределите операции в порядке их выполнения при сборке автомата после неполной разборки (ответ представьте последовательностью букв, например: в, а,..):

- а) Присоединяют шомпол;
- б) Присоединяют затворную раму с затвором к ствольной коробке;
- в) Присоединяют крышку ствольной коробки;
- г) Присоединяют магазин к автомату;
- д) Присоединяют затвор к затворной раме;
- е) Присоединяют возвратный механизм;
- ж) Присоединяют газовую трубку со ствольной накладкой;
- з) Вкладывают пенал в гнездо приклада;
- и) Спускают курок с боевого взвода.
- к) Ставят курок на предохранитель

Задание 3. Ситуационная задача. (максимальное количество баллов -10б.)

На автобусной остановке стоящий рядом мужчина побледнел и упал. Он - без сознания, кожные покровы бледные, с сероватым оттенком; зрачки широкие, на свет не реагируют.

Выберите правильные ответы и расположите их в порядке очередности выполнения:

1. Вызвать скорую помощь.
2. Убедиться в отсутствии пульса на сонной артерии и реакции зрачков на свет.
3. Позвать окружающих на помощь.
4. Определить признаки дыхания с помощью ворсинок ваты или зеркала.
5. Нанести прекардиальный удар и приступить к сердечно-легочной реанимации.
6. Попытаться добиться от мужчины, на что он все-таки жалуется.

+
+
+
-

Обм - 10-2

7. Подробно расспросить окружающих, что предшествовало потере сознания.
8. Повернуть пострадавшего на живот.
9. Приложить к голове холод (целлофановый пакет со снегом или холодной водой).
10. Поднести к носу ватку с нашатырным спиртом.

Задание 4. Вопросы по правилам пожарной безопасности (максимальное количество баллов - 10б.)

1. В каком из перечисленных примеров могут создаться условия для возникновения процесса горения:

- а) бензин + кислород воздуха
- б) ткань, смоченная в азотной кислоте + тлеющая сигарета
- в) гранит + кислород воздуха + пламя горелки
- г) дерево + кислород воздуха + факел
- д) ацетон + кислород воздуха + искра от зажигалки

2. Как вы поступите если на вас загорелась одежда:

- а) побежите, постараетесь сорвать одежду
- б) остановитесь, упадете, покатитесь, сбивая пламя
- в) завернетесь в одеяло и обмотаетесь плотной тканью

3. Вы идете вечером и замечаете, что из подвала вашего дома валит дым и из дверей выбегают дети.

Ваши действия:

- а) подойдете и спросите, что там горит
- б) войдете внутрь и посмотрите, что горит
- в) пойдете домой и позвоните в пожарную охрану

4. Для приведения в действие огнетушителя ОУ необходимо:

- 1 а) направить раструб на пламя
- б) сорвать пломбу и выдернуть чеку
- в) прочистить раструб
- г) нажать на рычаг
- 2 д) взяться за раструб рукой и придерживать его

Выберите правильные ответы и расположите их по очередности действий.

5. Как вы думаете большее или меньшее поражение, чем огонь, вызывает кипящая жидкость, попавшая на тело:

- а) меньшее
- б) большее
- в) не приходилось сталкиваться с этим.

6. Сжигание мусора на территории предприятия или во дворе :

- а) запрещается;
- б) разрешается, если расстояние от места сжигания до зданий и сооружений более 150 м;

- в.) разрешается в присутствии сотрудника противопожарной службы;
 г.) разрешается, если место сжигания обнесено барьерным ограждением.

Задание 2. Вопросы по правилам дорожного движения (максимальное количество баллов -10б.)


1. Где разрешается кататься на санках и лыжах?



1. По дороге, предназначенной для пешеходов.
2. По правой стороне проезжей части.
3. В специально отведенных местах для массового отдыха, где нет опасности выезда на проезжую часть.



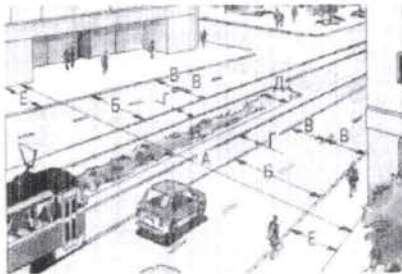
2. Разрешается ли в этой обстановке водителю левого автомобиля продолжать движение через пешеходный переход?



1. Разрешается.
2. Запрещается.




3. Основными элементами дороги в городе являются:



1. Обочина, кювет, тротуар.
2. Пешеходный переход, дорожное ограждение, обочина.
3. Проезжая часть, тротуар, разделительная полоса, трамвайные пути, обочина.



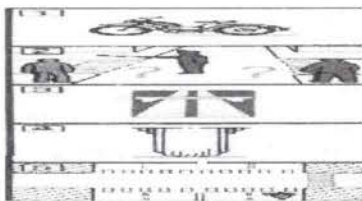
4. Где разрешается водить группы детей в населенном пункте?



1. Только по тротуару или пешеходной дорожке.
2. По краю проезжей части вдоль тротуара.



5. Разрешается ли эксплуатация мопеда, если рисунок протектора его шин полностью стерт?



1. Разрешается только в сухую погоду.
2. Разрешается.
3. Не разрешается.



6. Как должны двигаться лица, ведущие мотоцикл, мопед или велосипед, за пределами населенного пункта?

1. По краю проезжей части навстречу движению транспортных средств.
2. По краю проезжей части по ходу движения транспортных средств.
3. По тротуару.
4. По тротуару или велосипедной дорожке



7. Какие знаки предупреждают о приближении к железнодорожному переезду со шлагбаумом?



А Б В Г Д

1. Все знаки.
2. А и Б.
3. А и Д.
4. А и Г.
5. В и Г.
6. Г.



8. Если по вине пешехода, произошло ДТП в результате которого были повреждены автомобиль или придорожные постройки, нарушитель наказывается следующим образом:

1. Инспектор ГИБДД предупредит его.
2. Нарушителя оштрафуют.
3. Нарушителя оштрафуют и он должен будет возместить ущерб от ДТП.



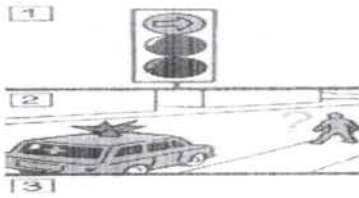
9. Имеет ли право водитель мопеда проезжать за этот знак?



1. Имеет право.
2. Не имеет права.



10. Что сказано в ПРАВИЛАХ о переходе дороги, если приближается автомобиль с проблесковым маячком или специальным сигналом?



- ①. Воздерживаться от выхода на проезжую часть.
2. Можно переходить дорогу, не мешая этому автомобилю.



Практическая часть

Задние 1 Наложение кровоостанавливающего жгута (закрутки) на бедро и плечо.

(максимальное количество баллов -10б.)

Условия выполнения нормативов. Статист, которому накладывают жгут (закрутку), лежит в удобном положении. Учащийся держит развернутый жгут в руках. Материал для наложения закрутки лежит на столе рядом. Жгут (закрутка) накладывается на одежду. На столе рядом лежит блокнот и карандаш. По заданию и команде преподавателя учащийся накладывает жгут (закрутку) на указанную область. Указывает время их наложения (часы, минуты) и записку подкладывает под последний ход жгута (закрутки), контролирует отсутствие пульса на периферическом сосуде. Этим заканчивается выполнение норматива.

Возможные ошибки, снижающие оценку на 1 балл.

- наложение жгута (закрутки) не на ту область (сторону);
- чрезмерное перетягивание конечности или наличие пульса на периферическом сосуде;
- не записано время наложения жгута (закрутки); наложение жгута (закрутки) на голое тело.

Время выполнения норматива

Наложение кровоостанавливающего жгута на плечо, бедро:

«отлично» — 25 сек.,

«хорошо» — 30 сек,

«удовлетворительно» — 35 сек.;

Задание 2 . Надевание противогаза ГП – 5 (максимальное количество баллов -10б.)

Баллы	Время надевание противогаза (в секундах)
10	8.0 сек
9	8.5 сек
8	9.0 сек
7	9.5 сек
6	10.0 сек
5	10.5 сек
4	11.0 сек
3	11.3 сек
2	11.7 сек
1	12.0 сек

10 баллов – лучший результат по времени (наименьшее время с учетом возможных ошибок)

9 баллов – второй результат;

8 баллов – третий результат;

7 баллов – четвертый и последующие результаты.

Исходное положение противогаза – наготове (сумка расстегнута, противогаз впереди). По команде «Газы!», учащиеся надевают противогаз.

385

ОБЖ-9Б-4

ЗАДАНИЯ

ВСЕРОССИЙСКОЙ ОЛИМПИАДЫ ШКОЛЬНИКОВ ПО ОБЖ 2023-2024у. г.

(школьный этап)

9 класс

1. Ураганные ветры сопровождаются:

а) ясной погодой;

б) ливневыми дождями;

в) океаническими волнами вблизи берега высотой более 25 метров.

2. Велосипедист:

а) всегда является водителем транспортного средства

б) не является водителем транспортного средства

в) не является водителем транспортного средства до 14 лет

г) является водителем транспортного средства только в возрасте старше 18 лет

3. какой узел является схватывающим?

а) стремя

б) прусик

в) проводник

г) штык

4. Скорость распространения низового лесного пожара:

а) менее 5 м/мин;

б) более 10 м/мин;

в) 50–100 м/мин.

5. Если при лесном низовом пожаре Вы встретились с его кромкой, то выходить из опасной зоны будете:

а) против ветра;

б) перпендикулярно направлению ветра;

06И-9В-4

в) по ветру.

6. запускать небесные или китайские фонарики на территории всех поселений и городских округов

а) разрешено

б) запрещено

в) запрещено только в ветряную погоду

г) разрешено только в дождливую погоду

7. После наводнения сырую воду из колодцев можно пить после:

а) двухразовой откачки воды из колодца;

б) четырёхкратной откачки воды;

в) письменного разрешения Роспотребнадзора.

8. Находясь на эскалаторе метро, запрещается

а) стоять справа лицом по направлению движения

б) бежать по эскалатору

в) держать детей на руках

г) проходить с левой стороны

9. Начальными признаками переутомления являются:

а) пониженное артериальное давление;

б) боли в суставах;

в) увеличение числа простых ошибок.

10. Какой витамин образуется в организме человека при воздействии на кожу солнечных лучей?

а) А

б) К

в) Е

г) D

11. Цунами – это океанические волны высотой:

а) более 10 метров;

б) более 20 метров;

в) более 75 метров.

12. Скорость вращения воздуха в смерче:

а) более 50 км/ч;

б) менее 50 км/ч;

в) 50 км/ч.

13. Во время извержения вулкана необходимо покинуть опасную зону:

а) в направлении ветра;

б) в направлении движения облаков;

в) перпендикулярно направлению ветра;

г) перпендикулярно направлению движения облаков.

14. Верховой лесной пожар может возникнуть при:

а) безветрии;

б) скорости ветра 0,5–1,5 м/с;

в) скорости ветра 5–15 м/с.

15. Возникновение новых очагов низового лесного пожара:

а) возможно с помощью горящих искр;

б) возможно с помощью падающих горящих веточек;

в) не возможно с помощью горящих искр и веточек.

16. Вас застиг ураган на улице. Во время сильных порывов урагана лучше:

а) спрятаться у стены здания;

б) убежать подальше от здания;

в) лечь в канаву, плотно прижавшись к земле.

17. При неожиданном весеннем затоплении территории вокруг вашего дома необходимо в первую очередь:

а) срочно бежать в поисках более безопасного места;

б) включить радио и телевизор;

в) перебраться на верхний этаж или чердак дома.

18. С момента обнажения морского дна перед цунами в вашем распоряжении примерно:

Общ-9В-4

а) 5 секунд;

+ б) 5 минут;

в) 55 минут.

19. Какая повязка является основной при наложении других видов повязок?

а) спиральная

+ б) круговая

в) восьмиобразная (крест ообразная)

20. невыполнение режима дня приводит к:

а) нарушению функций мышечной и костной системы;

+ б) нарушению функций центральной нервной системы;

в) нарушению функций пищеварительной системы;

*Все правильные ответы оцениваются в 3 балла. 0 баллов выставляется за неправильный ответ, а также, если участником отмечено более одного ответа (в том числе правильный).

300

**письменные задания теоретического тура
школьного этапа Олимпиады
(9 класс)**

Задание 1. Основываясь на знаниях в области безопасного поведения при

террористических актах, выполните следующие задания:

а. Перечислите признаки возможного наличия взрывных устройств.

Вариант ответа: сумка, лежащая без хозяина, в автобусе, общ. местах. 10

б. Среди террористических актов особое место занимают преступления, связанные с захватом в заложники. Как Вы поступите, если вдруг окажетесь в числе заложников захваченного террористами самолета?

Вариант ответа: буду выполнять все приказы террористов 10

Оценка задания. Максимальная оценка за правильно выполненное задание, которое состоит из 2-х частей – 10 баллов, при этом: за правильный ответ на первую часть задания начисляется – 3 балла (по 1 баллу за любые правильные ответы по двум позициям, предусмотренным в вариантах ответа). Если ответ не верен, или не указан, баллы не начисляются. За правильный ответ на вторую часть задания, максимально может быть начислено – 7 баллов, в т.ч.: компонент знаний в области безопасного поведения при террористических актах оценивается до 5 баллов; умение выразить смысловое содержание и грамотность ответа оценивается до 2 баллов.

Задание 2. В последнее время отмечено активное увлечение «азартными компьютерными играми». В чём заключается опасность этого увлечения, какой вред оно наносит человеку?

Вариант ответа: У человека появляется лудомания, он подсаскивается на азартные игры, берет долги, проигрывает деньги, здоровье, вещи. 35

Оценка задания: Максимальная оценка за правильно выполненное задание – 10 баллов, при этом: за правильный ответ по любой из позиций, предусмотренных в варианте ответа, начисляется – 2 балла. Если ответ не верен, или не указан, баллы не начисляются.

Задание 3. АХОВ различаются по воздействию на организм человека. Распределите по группам АХОВ : хлор, треххлористый фосфор, фосген, хлорпикрин, оксид углерода, синильная кислота, сернистый ангидрид, сероводород, метилмеркаптан, оксид этилена

Группы АХОВ	Предназначение средств защиты
Вещества с преимущественно удушающим действием, с выраженным прижигающим действием	Противогаз
Вещества с преимущественно удушающим действием, со слабым прижигающим действием	Противогаз
Вещества общеядовитого действия	противогаз
Вещества, обладающие удушающим и общеядовитым действием	Противогаз
Нейротропные яды	противогаз

Максимальный балл 10, за каждое правильно указанное АХОВ 1 балл

3. Опишите Ваши действия по сигналу «Барьер»

Варианты ответа:

1. Забарикодировать дверь партами и стульями.
2. Закрыть окна
3. Сесть в угол и сидеть тихо

Оценка задания. . Максимальная оценка за правильно выполненное задание – 10 баллов, при этом: за каждую правильно указанную позицию в 1 начисляется 2 балла, за 2 и 3 – по 1 баллу. Если ответ не верен, или не указан, баллы не начисляются; при неполных ответах количество баллов снижается.

ЗАДАНИЯ

ВСЕРОССИЙСКОЙ ОЛИМПИАДЫ ШКОЛЬНИКОВ ПО ОБЖ
2023-2024у. г.

(школьный этап)

9 класс

1. Ураганные ветры сопровождаются:

а) ясной погодой;

+ б) ливневыми дождями;

в) океаническими волнами вблизи берега высотой более 25 метров.

2. Велосипедист:

+ а) всегда является водителем транспортного средства

б) не является водителем транспортного средства

в) не является водителем транспортного средства до 14 лет

г) является водителем транспортного средства только в возрасте старше 18 лет

3. какой узел является схватывающим?

а) стремя

- б) прусик

в) проводник

 г) штык

4. Скорость распространения низового лесного пожара:

+ а) менее 5 м/мин;- б) более 10 м/мин;

в) 50-100 м/мин.

5. Если при лесном низовом пожаре Вы встретились с его кромкой, то выходить из опасной зоны будете:

+ а) против ветра; б) перпендикулярно направлению ветра;

в) по ветру.

6. запускать небесные или китайские фонарики на территории всех поселений и городских округов

а) разрешено

б) запрещено

в) запрещено только в ветряную погоду

г) разрешено только в дождливую погоду

7. После наводнения сырую воду из колодцев можно пить после:

а) двухразовой откачки воды из колодца;

б) четырёхкратной откачки воды;

в) письменного разрешения Роспотребнадзора.

8. Находясь на эскалаторе метро, запрещается

а) стоять справа лицом по направлению движения

б) бежать по эскалатору

в) держать детей на руках

г) проходить с левой стороны

9. Начальными признаками переутомления являются:

а) пониженное артериальное давление;

б) боли в суставах;

в) увеличение числа простых ошибок.

10. Какой витамин образуется в организме человека при воздействии на кожу солнечных лучей?

а) А

б) К

в) Е

г) D

11. Цунами – это океанические волны высотой:

а) более 10 метров;

б) более 20 метров;

в) более 75 метров.

12. Скорость вращения воздуха в смерче:

+ а) более 50 км/ч;

б) менее 50 км/ч;

в) 50 км/ч.

13. Во время извержения вулкана необходимо покинуть опасную зону:

а) в направлении ветра;

б) в направлении движения облаков;

в) перпендикулярно направлению ветра;

- г) перпендикулярно направлению движения облаков.

14. Верховой лесной пожар может возникнуть при:

а) безветрии;

б) скорости ветра 0,5–1,5 м/с;

- в) скорости ветра 5–15 м/с.

15. Возникновение новых очагов низового лесного пожара:

а) возможно с помощью горящих искр;

б) возможно с помощью падающих горящих веточек;

- в) не возможно с помощью горящих искр и веточек.

16. Вас застиг ураган на улице. Во время сильных порывов урагана лучше:

а) спрятаться у стены здания;

б) убежать подальше от здания;

+ в) лечь в канаву, плотно прижавшись к земле.

17. При неожиданном весеннем затоплении территории вокруг вашего дома необходимо в первую очередь:

а) срочно бежать в поисках более безопасного места;

- б) включить радио и телевизор;

в) перебраться на верхний этаж или чердак дома.

18. С момента обнажения морского дна перед цунами в вашем распоряжении примерно:

а) 5 секунд;

+ б) 5 минут;

в) 55 минут.

19. Какая повязка является основной при наложении других видов повязок?

а) спиральная

+ б) круговая

в) восьмиобразная (крест ообразная)

20. Невыполнение режима дня приводит к:

+ а) нарушению функций мышечной и костной системы;

б) нарушению функций центральной нервной системы;

в) нарушению функций пищеварительной системы;

*Все правильные ответы оцениваются в 3 балла. 0 баллов выставляется за неправильный ответ, а также, если участником отмечено более одного ответа (в том числе правильный).

письменные задания теоретического тура

школьного этапа Олимпиады

(9 класс)

Задание 1. Основываясь на знаниях в области безопасного поведения при

террористических актах, выполните следующие задания:

а. Перечислите признаки возможного наличия взрывных устройств.

Вариант ответа: ~~никак~~ любая ~~бы~~ взрывное устройство: писицит

б. Среди террористических актов особое место занимают преступления, связанные с захватом в заложники. Как Вы поступите, если вдруг окажитесь в числе заложников захваченного террористами самолета?

Вариант ответа: попытаться найти этого человека и сообщить о нем пилоту

Оценка задания. Максимальная оценка за правильно выполненное задание, которое состоит из 2-х частей – 10 баллов, при этом: за правильный ответ на первую часть задания начисляется – 3 балла (по 1 баллу за любые правильные ответы по двум позициям, предусмотренным в вариантах ответа). Если ответ не верен, или не указан, баллы не начисляются. За правильный ответ на вторую часть задания, максимально может быть начислено – 7 баллов, в т.ч.: компонент знаний в области безопасного поведения при террористических актах оценивается до 5 баллов; умение выразить смысловое содержание и грамотность ответа оценивается до 2 баллов.

Задание 2. В последнее время отмечено активное увлечение «азартными компьютерными играми». В чём заключается опасность этого увлечения, какой вред оно наносит человеку?

Вариант ответа: Трата денег. человек становится эмоционально
зависимым. 30

Оценка задания. Максимальная оценка за правильно выполненное задание – 10 баллов, при этом: за правильный ответ по любой из позиций, предусмотренных в варианте ответа, начисляется – 2 балла. Если ответ не верен, или не указан, баллы не начисляются.

Задание 3. АХОВ различаются по воздействию на организм человека. Распределите по группам АХОВ : хлор, треххлористый фосфор, фосген, хлорпикрин, оксид углерода, синильная кислота, сернистый ангидрид, сероводород, метилмеркаптан, оксид этилена

Группы АХОВ	Предназначение средств защиты
Вещества с преимущественно удушающим действием, с выраженным прижигающим действием	
Вещества с преимущественно удушающим действием, со слабым прижигающим действием	
Вещества общеядовитого действия	
Вещества, обладающие удушающим и общеядовитым действием	
Нейротропные яды	

Максимальный балл 10, за каждое правильно указанное АХОВ 1 балл 00

3. Опишите Ваши действия по сигналу «Барьер»

Варианты ответа:

1. Взять ключи и закрыть дверь
2. Взять утки в угол на против окна и сидеть там до окончания сигнала
3. Открыть дверь и сесть на свое место 30

Оценка задания. . Максимальная оценка за правильно выполненное задание – 10 баллов, при этом: за каждую правильно указанную позицию в 1 начисляется 2 балла, за 2 и 3 – по 1 баллу. Если ответ не верен, или не указан, баллы не начисляются; при неполных ответах количество баллов снижается.

**ОЛИМПИАДА ШКОЛЬНИКОВ
ОСНОВАМ БЕЗОПАСНОСТИ ЖИЗНЕДЕЯТЕЛЬНОСТИ**

на 2023–2024 учебный год

ШКОЛЬНЫЙ ЭТАП ДЛЯ 7–8 КЛАССОВ

Тестовые задания.

Определите правильный ответ.

За правильный ответ начисляется 2 балла.

1. Культура безопасности жизнедеятельности в современном обществе

Что изучает предмет ОБЖ?

а). Безопасность жизнедеятельности (ОБЖ, ОБЖД, БЖД) – наука ОБЖ продолжите

ответ)

Основы безопасности жизнедеятельности

2. Перечислите нормы здорового образа жизни:

Здоровый образ жизни у школьника должен состоять из следующих компонентов:

- а). рациональное питание
б). физическая активность
в). общеукрепляющие и антистрессовые мероприятия
г). полноценный отдых

3. Безопасность в быту

Ваши действия при возгорании компьютера;

- а) отключить питание компьютера;
б) потушить огонь с помощью огнетушителя или накрыть плотной тканью;
в) выбросить компьютер в окно.

Чем опасна утечка газа

- а) утечка газа может стать причиной отравления,
б) детонации газа или его возгорания
в) поломкой газовой плиты

4. Безопасность при обращении с электрическим током, нельзя:

- а) касаться оголённых проводов, по которым идёт электрический ток;
б) проверять наличие электрического тока в приборах или проводах пальцами;
в) заземлять провода дверями, оконными рамами, закреплять провода на гвоздях;
г) в случае короткого замыкания или возгорания электрических приборов и проводов немедленно сообщить персоналу.

5. Где рекомендуется хранить средства бытовой химии?

- 45
- а) в плотно закрытой фабричной упаковке;
 - б) на кухне;
 - в) в ванной;
 - г) в закрытом шкафу.

6. Безопасность на транспорте

Из предложенных вариантов выберите основную причину транспортных аварий:

Варианты ответов

- 25
- а) отсутствие разметки на дороге
 - б) плохие погодные условия
 - в) невнимательность участников дорожного движения
 - г) отсутствие светофоров на перекрестках
 - д) нет освещения на дорогах

7. Безопасность в общественных местах

Отметить, что нельзя делать:

- 25
- а) разговаривать с незнакомцами и не впускать их в дом;
 - б) не вступая в разговор уйти от незнакомца;
 - в) заходить с незнакомыми в лифт или подъезд;
 - г) садится в машину к незнакомцам.

8. Безопасность в природной среде

Для не умеющих плавать пользователей любого возраста и любой массы тела рекомендуется выбирать спасательный жилет, имеющий уровень плавучести

- 25
- а) 50
 - б) 100
 - в) 120
 - г) 150

9. Здоровье и как его сохранить

Верны ли следующие суждения?

Понятие рационального питания включает соблюдение следующих принципов:

1. обеспечение баланса энергии, поступающей с пищей и расходуемой человеком в процессе жизнедеятельности
2. удовлетворение потребности организма во всех пищевых веществах

- 05
- а) верно только А
 - б) верно только Б
 - в) верны оба суждения
 - г) оба суждения неверны

10. Основы медицинских знаний

Подробный осмотр пострадавшего при оказании первой помощи выполняется в определённой последовательности.

Расставьте наименования анатомических областей тела человека в последовательности выполнения их осмотра

Очередность выполнения	Наименование анатомических
подробного осмотра	областей тела человека
проведите стрелки	

г)	Живот и таз
е)	Спина
д)	Конечности
а)	Голова
б)	Грудь +
в)	Шея

11. Безопасность в социуме.

Какие из перечисленных признаков относятся к массовым беспорядкам? Выберите все правильные ответы:

- 45
- а) неподчинение полиции;
 - б) поджоги;
 - в) проникновение в жилище с целью хищения имущества;
 - г) погромы.

12. Безопасность в информационном пространстве.

Основными источниками угроз информационной безопасности являются все указанное в списке:

- 25
- а) хищение жестких дисков, подключение к сети, инсайдерство;
 - б) перехват данных, хищение данных, изменение архитектуры системы;
 - в) хищение данных, подкуп системных администраторов, нарушение регламента работы.

13. Основы противодействия экстремизму и терроризму

Экстремистская деятельность (экстремизм) – это:

- 05
- а) публичное оправдание терроризма;
 - б) подстрекательство к террористическому акту;
 - в) вербовка, вооружение, обучение и использование террористов, пропаганда идей терроризма;
 - г) воспрепятствование осуществлению гражданами их избирательных прав.

14. Взаимодействие личности, общества и государства в обеспечении безопасности жизни и здоровья населения».

Система политических, экономических, социальных и правовых мер по подготовке к вооруженной защите и вооруженная защита РФ, целостности и неприкосновенности ее территории — это:

- 05
- а) оборона государства;
 - б) военные действия;
 - в) внешняя политика;
 - г) геополитика.

15. Основы комплексной безопасности

Вы находитесь в своей квартире. Горит входная дверь. Огонь отрезал путь к выходу. Что вы будете делать?

Варианты ответов:

- 15
- а) уйдете в дальнюю комнату, плотно закрыв за собой все двери, входную дверь закроете мокрым одеялом, затем вызовете пожарную охрану;
 - б) откроете дверь и выбежите, чтобы спуститься по лестничному маршу ниже от зоны пожара;
 - в) начнете кричать с балкона, звать на помощь прохожих и соседей;
 - г) спрячетесь в ванной комнате и включите холодную воду.

16. Как вы поступите сразу же при возгорании компьютера?

Установите правильную последовательность действий

- 15
- а) Зальете водой;
 - б) Начать тушить огнетушителем;
 - в) Выкинете горящий компьютер в окно;
 - г) Немедленно отключите компьютер от сети;
 - д) Сообщите о пожаре 01 или 112.

г, б, д, а, в

17. Основы обороны государства.

Воинская обязанность — это:

- 15
- а) обязательство молодого человека, достигшего призывного возраста, пройти срочную службу в рядах Армии РФ;
 - б) возможность пройти службу в рядах Армии РФ и получить почетное звание;
 - в) установленный законом почетный долг граждан с оружием в руках защищать свое Отечество, нести службу в рядах Вооруженных Сил, проходить вневойсковую подготовку и выполнять другие связанные с обороной страны обязанности;
 - г) обязательство молодого человека, достигшего призывного возраста, пройти службу по контракту в рядах Армии РФ.

18. Для граждан РФ предусмотрено прохождение службы:

- 25
- а) по призыву и по контракту (в добровольном порядке);
 - б) только по призыву;
 - в) только по контракту;
 - г) только по призыву в случае начала военных действий.

19. Военно-профессиональная деятельность.

1. Чтобы выполнить норматив для нового пополнения воинских частей, молодому военнослужащему необходимо пробежать 3 км за:

- 25
- а) 14 мин.
 - б) 14 мин. 30 сек.
 - в) 16 мин.

2. Чтобы выполнить норматив для нового пополнения воинских частей на оценку «хорошо», молодому военнослужащему необходимо столько раз подтянуться на перекладине:

- 05
- а) 19 раз
 - б) 9 раз
 - в) 7 раз

20. Защита населения Российской Федерации от опасных и чрезвычайных ситуаций

Минимальная толщина льда, по которой можно безопасно передвигаться человеку, составляет:

- а) 50 мм
- б) 70 мм
- в) 100 мм
- г) 150 мм

21. Опасность влияния биологического заражения на человека заключается в:

- а) развитию различных патологий, которые без необходимого лечения могут привести к летальному исходу;
- б) заражении употребляемых продуктов и питьевой воды;
- в) инкубационный период, который проявляется не сразу;
- г) все ответы верны.

22. К средствам индивидуальной защиты относятся:

- а) только респираторы;
- б) только медицинские маски;
- в) только противогазы;
- г) противогазы, изолирующие и фильтрующие, респираторы и простые средства защиты.

23. Безопасность в природной среде и экологическая безопасность

Средой обитания человека называется:

- а) экологическая система совместно с техносферой и обществом;
- б) атмосфера и гидросфера;
- в) поверхность Земли.

24. Элементы начальной военной подготовки

1. Сколько патронов вмещает магазин АКМ?

- а) 10
- б) 20
- в) 30
- г) 40

ОБЖ - 8В - 22

435

**ОЛИМПИАДА ШКОЛЬНИКОВ
ОСНОВАМ БЕЗОПАСНОСТИ ЖИЗНЕДЕЯТЕЛЬНОСТИ**

на 2023–2024 учебный год

ШКОЛЬНЫЙ ЭТАП ДЛЯ 7–8 КЛАССОВ

Тестовые задания.

Определите правильный ответ.

За правильный ответ начисляется 2 балла.

1. Культура безопасности жизнедеятельности в современном обществе

Что изучает предмет ОБЖ?

а). Безопасность жизнедеятельности (ОБЖ, ОБЖД, БЖД) – наука _____ продолжите

ответ)

005 Основы безопасности жизнедеятельности

2. Перечислите нормы здорового образа жизни:

Здоровый образ жизни у школьника должен состоять из следующих компонентов:

- 85
- а). закаляться
 - б). спорт
 - в). правильное питание
 - г). гигиена

3. Безопасность в быту

Ваши действия при возгорании компьютера;

- 25
- а) отключить питание компьютера;
 - б) потушить огонь с помощью огнетушителя или накрыть плотной тканью;
 - в) выбросить компьютер в окно.

Чем опасна утечка газа?

- 25
- а) утечка газа может стать причиной отравления,
 - б) детонации газа или его возгорания
 - в) поломкой газовой плиты

4. Безопасность при обращении с электрическим током, нельзя:

- 25
- а) касаться оголённых проводов, по которым идёт электрический ток;
 - б) проверять наличие электрического тока в приборах или проводах пальцами;
 - в) заземлять провода дверями, оконными рамами, закреплять провода на гвоздях;
 - г) в случае короткого замыкания или возгорания электрических приборов и проводов немедленно сообщить персоналу.

ОБЖ - 8В - 20

5. Где рекомендуется хранить средства бытовой химии?

- а) в плотно закрытой фабричной упаковке;
- б) на кухне;
- в) в ванной;
- 25 г) в закрытом шкафу.

6. Безопасность на транспорте

Из предложенных вариантов выберите основную причину транспортных аварий:

Варианты ответов

- 25 а) отсутствие разметки на дороге
- б) плохие погодные условия
- в) невнимательность участников дорожного движения
- г) отсутствие светофоров на перекрестках
- д) нет освещения на дорогах

7. Безопасность в общественных местах

Отметить, что нельзя делать:

- 65 а) разговаривать с незнакомцами и не впускать их в дом;
- б) не вступая в разговор уйти от незнакомца;
- в) заходить с незнакомыми в лифт или подъезд;
- г) садится в машину к незнакомцам.

8. Безопасность в природной среде

Для не умеющих плавать пользователей любого возраста и любой массы тела рекомендуется выбирать спасательный жилет, имеющий уровень плавучести

- а) 50
- 05 б) 100
- в) 120
- г) 150

9. Здоровье и как его сохранить

Верны ли следующие суждения?

Понятие рационального питания включает соблюдение следующих принципов:

1. обеспечение баланса энергии, поступающей с пищей и расходуемой человеком в процессе жизнедеятельности
2. удовлетворение потребности организма во всех пищевых веществах

- 05 а) верно только А
- б) верно только Б
- в) верны оба суждения
- г) оба суждения неверны

10. Основы медицинских знаний

Подробный осмотр пострадавшего при оказании первой помощи выполняется в определённой последовательности.

Расставьте наименования анатомических областей тела человека в последовательности выполнения их осмотра

Очередность выполнения	Наименование анатомических
подробного осмотра	областей тела человека
проведите стрелки	

ОБЖ - РБ - 22

г)		Живот и таз	—
е)		Спина	—
д)		Конечности	—
а)		Голова	—
б)		Грудь	—
в)		Шея	—

11. Безопасность в социуме.

Какие из перечисленных признаков относятся к массовым беспорядкам? Выберите все правильные ответы:

- а) неподчинение полиции;
- б) поджоги;
- в) проникновение в жилище с целью хищения имущества;
- г) погромы.

12. Безопасность в информационном пространстве.

Основными источниками угроз информационной безопасности являются все указанное в списке:

- а) хищение жестких дисков, подключение к сети, инсайдерство;
- б) перехват данных, хищение данных, изменение архитектуры системы;
- в) хищение данных, подкуп системных администраторов, нарушение регламента работы.

13. Основы противодействия экстремизму и терроризму

Экстремистская деятельность (экстремизм) — это:

- а) публичное оправдание терроризма;
- б) подстрекательство к террористическому акту;
- в) вербовка, вооружение, обучение и использование террористов, пропаганда идей терроризма;
- г) воспрепятствование осуществлению гражданами их избирательных прав.

14. Взаимодействие личности, общества и государства в обеспечении безопасности жизни и здоровья населения».

Система политических, экономических, социальных и правовых мер по подготовке к вооруженной защите и вооруженная защита РФ, целостности и неприкосновенности ее территории — это:

- а) оборона государства;
- б) военные действия;
- в) внешняя политика;
- г) геополитика.

15. Основы комплексной безопасности

Вы находитесь в своей квартире. Горит входная дверь. Огонь отрезал путь к выходу. Что вы будете делать?

Варианты ответов:

00X - 815 - 02

- 25 а) уйдете в дальнюю комнату, плотно закрыв за собой все двери, входную дверь закроете мокрым одеялом, затем вызовете пожарную охрану;
- б) откроете дверь и выбежите, чтобы спуститься по лестничному маршу ниже от зоны пожара;
- в) начнете кричать с балкона, звать на помощь прохожих и соседей;
- г) спрячетесь в ванной комнате и включите холодную воду.

16. Как вы поступите сразу же при возгорании компьютера?

Установите правильную последовательность действий

- а) Зальете водой;
- б) Начать тушить огнетушителем;
- в) Выкинете горящий компьютер в окно;
- г) Немедленно отключите компьютер от сети;
- 15 д) Сообщите о пожаре 01 или 112.

Важ, а-4, 2-1, б-4, г-5

17. Основы обороны государства.

Воинская обязанность — это:

- а) обязательство молодого человека, достигшего призывного возраста, пройти срочную службу в рядах Армии РФ;
- 05 б) возможность пройти службу в рядах Армии РФ и получить почетное звание;
- в) установленный законом почетный долг граждан с оружием в руках защищать свое Отечество, нести службу в рядах Вооруженных Сил, проходить вневоинскую подготовку и выполнять другие связанные с обороной страны обязанности;
- г) обязательство молодого человека, достигшего призывного возраста, пройти службу по контракту в рядах Армии РФ.

18. Для граждан РФ предусмотрено прохождение службы:

- 25 а) по призыву и по контракту (в добровольном порядке);
- б) только по призыву;
- в) только по контракту;
- г) только по призыву в случае начала военных действий.

19. Военно-профессиональная деятельность

1. Чтобы выполнить норматив для нового пополнения воинских частей, молодому военнослужащему необходимо пробежать 3 км за:

- 25 а) 14 мин.
- б) 14 мин. 30 сек.
- в) 16 мин.

2. Чтобы выполнить норматив для нового пополнения воинских частей на оценку «хорошо», молодому военнослужащему необходимо столько раз потянуться на перекладине:

- 05 а) 19 раз
- б) 9 раз
- в) 7 раз

20. Защита населения Российской Федерации от опасных и чрезвычайных ситуаций

Минимальная толщина льда, по которой можно безопасно передвигаться человеку, составляет:

- 05 —
- а) 50 мм
 - б) 70 мм
 - в) 100 мм
 - г) 150 мм

21. Опасность влияния биологического заражения на человека заключается в:

- 25
- а) развитию различных патологий, которые без необходимого лечения могут привести к летальному исходу;
 - б) заражению употребляемых продуктов и питьевой воды;
 - в) инкубационный период, который проявляется не сразу;
 - г) все ответы верны.

22. К средствам индивидуальной защиты относятся:

- 05
- а) только респираторы;
 - б) только медицинские маски;
 - в) только противогазы;
 - г) противогазы, изолирующие и фильтрующие, респираторы и простые средства защиты.

23. Безопасность в природной среде и экологическая безопасность

Средой обитания человека называется:

- 25
- а) экологическая система совместно с техносферой и обществом;
 - б) атмосфера и гидросфера;
 - в) поверхность Земли.

24. Элементы начальной военной подготовки

1. Сколько патронов вмещает магазин АКМ?

- 25
- а) 10
 - б) 20
 - в) 30
 - г) 40

